

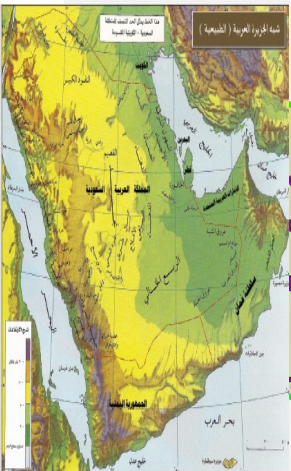


ضع علامة (✓) أمام العبارة الصحيحة وعلامة (x) أمام العبارة الخاطئة:

تضم دول شبه جزيرة العرب أهم المقدسات الإسلامية في العالم.

شبه جزيرة العرب تربط ثلاث قارات: آسيا، وأفريقيا، وأمريكا الجنوبية.

شبه جزيرة العرب تحتزن في أراضيها كميات كبيرة من النفط.



العاصمة هي المدينة الرئيس لكل دولة من دول شبه جزيرة العرب. (.....)

من دول شبه جزيرة العرب العراق والكويت. (.....)

100

اسم

المطالب:

الموضوع: الملاح العامة لدول شبه جزيرة العرب

أحط الإجابة

تقدر مساحة المملكة العربية السعودية:

309,500 كم².

5,55,000 كم².

2,000,000 كم².

صل من العمود الأول بما يناسب من العمود الثاني:

المنامة

عاصمة المملكة العربية السعودية:

صنعاء

عاصمة مملكة البحرين:

الرياض

عاصمة جمهورية اليمن:

10

اسم

المطالب:

الموضوع: تضاريس دول شبه جزيرة العرب



ضع دائرة حول الإجابة الصحيحة:

سلسلة جبلية تمتد من خليج العقبة شمالاً حتى خليج عدن على بحر العرب جنوباً وهي موازية للبحر الأحمر وتعد أكثر الجبال امتداداً وارتفاعاً في شبه جزيرة

جبال **ال**عمران

جبال الحجاز

هضبة حضر موت

ضع علامة (✓) أمام العبارة الصحيحة وعلامة (x) أمام العبارة الخاطئة:

تعد الهضاب من أكثر الظاهرات التضاريسية اتساعاً في شبه جزيرة العرب.

تمتد هضبة نجد في شمال شبه جزيرة العرب وهي أصغر الهضاب.

تطل السهول الساحلية الغربية على البحر الأحمر.

10

اسم
الم طالب:

الموضوع: تضاريس دول شبه جزيرة العرب



سهو

ل

شرق

ضع علامة (✓) أسفل الإجابة

واقه

ة

على

ساد

ل

خارج

السهول
الساحلية

سهل الباطنة

سهول الأحساء

ال.....

.....

.....

منه

منة:

من أكون؟

أكون على شكل مثلث في شمالي شبه
جزيرة العرب.

(.....)

أقع جنوب شبه جزيرة العرب وأعد أكبر
منطقة رملية متصلة في العالم تنحصر بين
هضبة الصمان شمالاً وهضبة حضرموت
جنوباً.

أوراق نشاط (التربية الاجتماعية والوطنية الصف الخامس الابتدائي)



الموضوع: مناخ دول شبه جزيرة العرب

أحط الكلمة الصحيحة مما بين القوسين:

(الجبال - الأمطار -
الرمال)

تعمل على خفض درجة الحرارة في المناطق الواقعة عليها كما في مرتفعات السروات

(حار - بارد -
صحراوي)

مناخ شبه الجزيرة العرب هو مناخ.

(التضاريس - المناخ -
الطقس)

وصف حالة الجو في مدة قصيرة يوم أو عدة ساعات.

أجب بـ نعم أو لا:

تختلف الأمطار في كميتها ومواعيد سقوطها صيفاً وشتاً
(.....)

تقل الرطوبة كلما ابتعدنا عن المسطحات المائية.
(.....)

الرياح الصيفية الممطرة تهب من الجهات الجنوبية الشمالية.
(.....)



من يكون؟

عبارة عن مجموعة من البشر يستقرون
في مكان محدد وزمن معين تربطهم
روابط متعددة.

(.....)

ضع علامة (صح) أمام العبارة الصحيحة وعلامة (خطأ) أمام العبارة الخاطئة:



.....

الدين الإسلامي له دوراً كبير في
قلة عدد السكان في دول شبه
جزيرة العرب.

.....

ساعد اكتشاف النفط على تركيز
السكان في مناطق إنتاجه.

.....

تتصف دول شبه جزيرة العرب
بشكل عام بارتفاع قليل في
نسبة الذكور عن الإناث.

100

اسم
المطالب:

الموضوع: سكان دول شبه جزيرة العرب



ضع دائرة حول الإجابة
المختلفة:

كل ما يلي من أسباب الزيادة
السكانية إلا واحدة:

- زيادة عدد
المواليد.
- زيادة عدد
الوفيات.
- الهجرة الوافدة.

ضع علامة (صح) أمام الإجابة الصحيحة:

يتوزع السكان في دول شبه جزيرة العرب
توزيعاً غير منتظم فيتركز السكان في:

المدن الصغرى ويقلون في المناطق
الصحراوية.

المدن الكبرى ويقلون في المناطق
الزراعية.

المدن الكبرى ويقلون في المناطق
الصحراوية.

أوراق نشاط (التربية الاجتماعية والوطنية للصف الخامس الابتدائي)



الموضوع: الأنشطة الاقتصادية في شبه جزيرة العرب



أحط رقم الإجابة المناسبة:



أهم الحرف التي عمل بها سكان شبه جزيرة العرب:
الزراعة
الرعي
الصناعة

صل بين المحصول والدول المنتجة له:



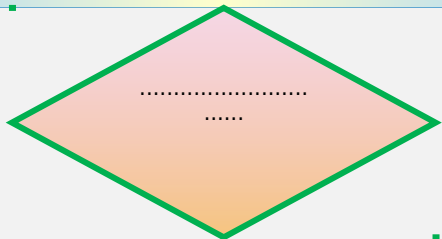
المملكة العربية السعودية
اليمن

البن
القمح
التمور



ما المقصود بالتعريف التالي؟

استخراج المعادن أو مشتقاتها من سطح التربة أو باطن الأرض وتصنيعها.



ضع علامة (صح) أسفل الإجابة الصحيحة:



الدولة المنتجة للذهب:

الكويت

السعودية

عمان



من الدول المنتجة للملح:

السعودية

عمان

اليمن



أوراق بسائط (التربية الاجتماعية والوطنية للصف الخامس الابتدائي)

..

..

..

..

..

..

100

اسم
الطالب:

الموضوع: العلاقات بين دول شبه جزيرة العرب

أحط الكلمة الصحيحة مما بين القوسين:

تعد رابطة من أقوى الروابط بين دول شبه جزيرة العرب:

اللغة
العربية

الدين
الإسلامي

العادات
والتقاليد

يتحدث السكان في مختلف دول شبه جزيرة العرب:

اللغة
الفارسية

اللغة
الهندية

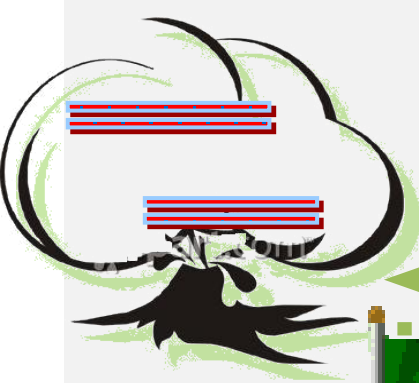
اللغة
العربية

ضع علامة (صح) أمام العبارة الصحيحة وعلامة (خطأ) أمام العبارة الخاطئة:

تتشابه دول شبه جزيرة العرب في العادات والتقاليد المتعلقة بالزواج والمناسبات.

لم تشهد الحضارات القديمة في شبه جزيرة العرب أي تفاعلات مع بعضها البعض.

الدين من أبرز العلاقات بين دول شبه جزيرة العرب.



100



اسم

المطالب:

الموضوع: أسباب ندرة المياه في دول شبه جزيرة العرب الجهود المبذولة لتوفير الماء والكهرباء



ضع دائرة حول الإجابة



موارد المياه في شبه

جزيرة العرب:

مياه الأمطار.

المياه السطحية.

مياه الخزانات.


المياه الجوفية.




ضع علامة (صح) أمام الجهود المبذولة لتوفير الماء:



إنشاء الخزانات لتخزين
وحفظ المياه.



مد شبكات وأسلاك الكهرباء
إلى القطاعات الصناعية.

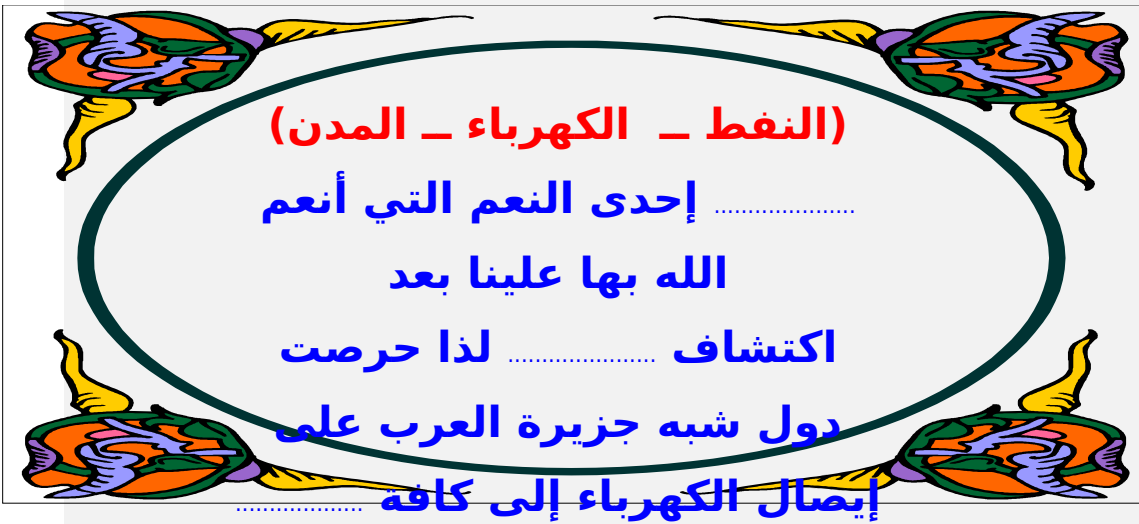


معالجة مياه الصرف
الصحي لاستخدامها في ري
المزروعات.

أوراق نشاط (التربية الاجتماعية والوطنية للصف الخامس الابتدائي)



ضع الكلمة المناسبة مكان النقاط:



أجب بـ نعم أو لا:

تعاين دول شبه جزيرة العرب من ندرة المياه العذبة بسبب قلة مواردها.

تعد الأمطار مورد غير رئيسي للمياه السطحية والجوفية في شبه جزيرة العرب.

المياه السطحية هي تجمعات مائية تكونت بسبب الأمطار.



ارسم دائرة أسفل الصورة التي تعبر عن الترشيد في استهلاك الماء:



ضع علامة (✓) أمام الإجابة الصحيحة:

من آثار الإسراف في استهلاك الماء:

ارتفاع تكاليف الماء. (.....)

تسرب للمياه داخل المدرسة. (.....)

عدم استخدام الوسائل الحديثة للري. (.....)

أوراق نشاط (التربية الاجتماعية والوطنية للصف الخامس الابتدائي)



أحط الإجابة الخاطئة:

كل ما يلي من طرق الترشيد
في استهلاك الكهرباء إلا
واحدة:

إطفاء الأجهزة الكهربائية والمصابيح فور
الانتهاء منها.
الاعتماد على ضوء الشمس أثناء النهار.
فتح النوافذ والأبواب والستائر أثناء عمل
أجهزة التكييف.

استخدام الأجهزة التي تعمل بالطاقة
ضع علامة (صح) أمام العبارة الصحيحة وعلامة (خطأ) أمام العبارة الخاطئة:

من طرق الترشيد في استهلاك الماء
غسيل السيارات بالخرطوم.

الإهدار للمال والكهرباء يعرضهما للانقطاع.



الموضوع: مفهوم التلوث البحري والبري وبعض آثاره السلبية

اسم الطالب:



اختر الكلمة الصحيحة وضعها مكان النقاط:

أض
را
ر
ر
حي
ة

يحدث عندما تتعرض الأرض
باستمرار إلى أي مواد يمكن أن تفسد
مظاهر فيها من هواء وماء
و..... وحيوان ويمكن أن نقول عن
الشيء إنه ملوث إذا كان غير نظيف
ويتسبب في ومشاكل صحية

ضع علامة () أمام الإجابة

الخاطئة:

الآثار السلبية للتلوث البحري والبري:

التصحّر وتلوث الحياة النباتية.
()

عدم انتشار الأوبئة والأمراض.
()

انقراض بعض الأحياء البحرية
والبرية. ()

أوراق نشاط (التربية الاجتماعية والوطنية للصف الخامس الابتدائي)



أكمل أساليب المحافظة على البيئة البحرية والبرية:

وضع النفايات والقمامة في الأكياس المعدة لها ورميها في أماكنها المخصصة.

عدم الإسراف في استخدام والمبيدات الحشرية.

نشر بأهمية المحافظة على البيئة.

عدم صرف مخلفات إلى البحار أو باطن الأرض.

الاهتمام بالتشجير وزراعة التي تحافظ على التربة.

أجب بـ نعم أو لا:

تلوث البيئة الناتج عن القمامة لا يسبب الأمراض.

يمكن الاستفادة من النفايات والمخلفات بتحويلها إلى مواد يعاد تصنيعها.

الاقتصاد في المأكول والمشرب يقلل من كمية الفضلات والنفايات.

.....

.....

.....

اوراق نشاط (التربية الاجتماعية والوطنية للصف الخامس الابتدائي)