



صفحة المتميز والتميز في القدرات



تجميع ١٤٣٤ - بنات - الفترة الأولى

شكر لكل من ساهم في هذا العمل من صفحات وأشخاص شاركوا في هذا العمل ولو بسؤال أو

نصيحة

دعواتكم لكل القائمين على العمل بـ ١٠٠٪ والفضوز في الدارين

إعداد وتجميع :



www.facebook.com/mody.boob





يوم الأربعاء ١٦ / ٣ / ١٤٣٤ هـ

١٣ / قارن بين :

إذا كان سعر ٣ أقلام ودفتر = ٧ ريال ، وسعر ٣ أقلام وشنطة = ١٠ ريال

(القيمة الأولى : سعر الدفتر) و (القيمة الثانية : سعر الشنطة)

(أ) القيمة الأولى أكبر	(ب) القيمة الثانية أكبر
(ج) القيمتان متساويتان	(د) المعطيات غير كافية

الحل : (ب) القيمة الثانية أكبر

٣ أقلام + دفتر = ٧ ريال ، ٣ أقلام + شنطة = ١٠ ريال

بحذف الـ ٣ أقلام من الطرفين

دفتر = ٧ ريال ، شنطة = ١٠ ريال

٢٣ / قارن بين :

(القيمة الأولى : ٠.٤١) و (القيمة الثانية : ٠.٤٠١)

(أ) القيمة الأولى أكبر	(ب) القيمة الثانية أكبر
(ج) القيمتان متساويتان	(د) المعطيات غير كافية

الحل : (أ) القيمة الأولى أكبر

بإضافة صفر إلى ٠.٤١ ليكون ٠.٤١٠ (إضافة صفر لا تغير القيمة)

(١٠٠ ÷ ٤١) أكبر من (١٠٠ ÷ ٤٠١)





س٣/ إذا كان $s \div v = 5$ ، أوجد ($s + 3v$) $\div v$

٢ (ب)	١٠ (أ)
٧ (د)	٨ (ج)

الحل : (ج) ٨

($s \div v = 5$) بضرب الطرفين $\times v$ ، $s = 5v$

بالتعويض في المعادله المطلوبه $5v$ مكان s

($5v + 3v$) $\div v = 8$ ، $8v \div v = 8$

س٤/ عدد ما نصفه يساوي ربع ، ما ثلث هذا العدد ؟

٦ \div ١ (ب)	١٢ \div ١ (أ)
١٨ \div ١ (د)	٢ \div ١ (ج)

الحل : (ب) ٦ \div ١

نحلل السؤال إلى أجزاء

الجزء الأول : عدد ما نصفه يساوي ربع (يعني علشان نجيب العدد ربع $\times 2 =$ نصف)

إذا العدد هو (نصف)

الجزء الثاني : ما ثلث هذا العدد (نصف \times ثلث) : ($2 \div 1$) \times ($3 \div 1$) = سدس ($6 \div 1$)

س٥/ ما باقي قسمه ١٧ على ٣ ؟

٢ (ب)	٢ (أ)
٥ (د)	٤ (ج)

الحل : (أ) ٢

$17 \div 3 = 5$ والباقي ٢ (لأن $3 \times 5 = 15$ والباقي على ١٧ يساوي ٢)





$$= \frac{40}{10} + \frac{4}{100} + \frac{4}{1000} \text{ س٦}$$

٤.٠٠٤ (ب)	٤٠.٠٤٤ (أ)
٤.٠٤ (د)	٤٠.٤٤ (ج)

الحل : (ج) ٤٠.٤٤

$$٤٠.٤٤ = ٤ + ٠.٠٤ + ٠.٠٠٤$$

$$= \frac{١}{٧} - ٠.٠٠٠١$$

٠.٩٩٩ (ب)	٠.٠٠٠٩ (أ)
٠.٩٩٩٩ (د)	٠.٠٠٩٩ (ج)

الحل : (د) ٠.٩٩٩٩

$$= \frac{4}{1000} + \frac{4}{100} + \frac{400}{10} \text{ س٨}$$

٤٠.٤٠٤ (ب)	٤٠.٠٤٤ (أ)
٤٠.٤٤٤ (د)	٤٠.٤٤٠ (ج)

الحل : (أ) ٤٠.٠٤٤

$$٤٠.٠٤٤ = ٤٠ + ٠.٠٤ + ٠.٠٠٤$$

س٩/ أقرب قيمة للمقدار (٢×٩ + ٢×١١)

٢٤٢ (ب)	١٢١ (أ)
٤٠ (د)	٨٠ (ج)

الحل : (د) ٤٠

$$٤٠ = (١٨) + (٢٢) = (٢ \times ٩) + (٢ \times ١١)$$





س١٠ / قارن بين :

إذا كان ساعة تتقدم ٩ دقائق كل ساعه و كانت الساعه الآن ١٢ صباحاً

(القيمة الأولى : الوقت في الساعة بعد مرور ٦ ساعات) و (القيمة الثانية : ٧ صباحاً)

(أ) القيمة الأولى أكبر	(ب) القيمة الثانية أكبر
(ج) القيمتان متساويتان	(د) المعطيات غير كافية

الحل : (ب) القيمة الثانية أكبر

القيمة الأولى : ٦ ساعات \times ٩ دقائق = ٥٤ دقيقة

الساعة الآن ١٢ وبعد مرور ٦ ساعات تصبح في الساعه ٦:٥٤

القيمة الثانية : ٧:٠٠

س١١ / أي الأعداد التالية أولي ؟

(أ) ١٠١	(ب) ١١٠١
(ج) ١٠١١	(د) ١١١١

الحل : (أ) ١٠١

الأعداد : ١١٠١ ، ١٠١١ تقبل القسمة على ٣ لأن مجموع أرقامها يقبل القسمة على ٣

العدد : ١١١١ يقبل القسمة على ١١

س١٢ / ٥ أضعاف عدد يساوي ٢٥% من ١٢٠ فما هو العدد ؟

(أ) ٣٠	(ب) ٦
(ج) ٨	(د) ٤٠

الحل : (ب) ٦

نترض ان العدد س





$$٥س = ٢٥\% \times ١٢٠$$

$$٥س = ٣٠ ، س = ٦$$

س١٣/ تملأ حنفية حوضاً من الماء في ساعتين ، وتملؤه حنفية ثانية في ٣ ساعات ، وتملؤة حنفية ثالثة في ٦ ساعات ، فإذا كان الحوض فارغاً ، وفتحت الحنفيات الثلاث معاً ، فبعد كم ساعة تملأ الحوض ؟

٢ (ب)	١ (أ)
٤ (د)	٣ (ج)

الحل : (أ) ١

قانون (قدرة العامل ، الصنبور) : $(١ \div ز) = (١ \div ز) + (١ \div ٢) + \dots$

$$(١ \div ز) = (١ \div ١) + (١ \div ٢) + (١ \div ٣) + \dots$$

$$(١ \div ز) = ١ \text{ إذا } ز = ١ \text{ (هو الزمن)}$$

س١٤/ قارن بين :

$$\text{إذا كان } أ = ٢ ، ب = ٢ ، ج = ٢ ، د = ٢$$

(القيمة الأولى : $(١ + د) \div ٣$) و (القيمة الثانية : $(ب + ج) \div ٢$)

(ب) القيمة الثانية أكبر	(أ) القيمة الأولى أكبر
(د) المعطيات غير كافية	(ج) القيمتان متساويتان

الحل : (ج) القيمتان متساويتان

$$د = ٢ ، ج = ٢ ، ب = ٢ ، أ = ٢ ، ٨ = ٢ + ٦ ، ١٦ = ٢ + ١٤$$

$$\text{القيمة الأولى} = ٣ \div (٢ + ١٦) = ٦$$

$$\text{القيمة الثانية} = ٢ \div (٨ + ٤) = ٦$$





س١٥ / قارن بين :

إذا كان حصل سعيد في ثلاث اختبارات على ٧٦ ، ٧٤ ، ٧٨

بينما حصل زميله ناصر على ٧٤ ، ٨٢ ، ٧٢

(القيمة الأولى : متوسط درجات سعيد) و (القيمة الثانية : متوسط درجات ناصر)

(أ) القيمة الأولى أكبر	(ب) القيمة الثانية أكبر
(ج) القيمتان متساويتان	(د) المعطيات غير كافية

الحل : (ج) القيمتان متساويتان

نحذف ٧٤ من الطرفين لتكرارها (ملحوظة : المتوسط = مجموع القيم ÷ عددها)

$$\text{متوسط درجات سعيد} = (٧٦ + ٧٨) \div ٢ = ١٥٤ \div ٢ = ٧٧$$

$$\text{متوسط درجات ناصر} = (٨٢ + ٧٢) \div ٢ = ١٥٤ \div ٢ = ٧٧$$

س١٦ / قارن بين :

(القيمة الأولى : سعر اللتر الواحد في قارورة زيت سعتها لتران وتباع بمبلغ ١٣ ريال)

(القيمة الثانية : سعر اللتر الواحد في قارورة زيت سعتها ٥ لترات وتباع بمبلغ ٢٨ ريال)

(أ) القيمة الأولى أكبر	(ب) القيمة الثانية أكبر
(ج) القيمتان متساويتان	(د) المعطيات غير كافية

الحل : (أ) القيمة الأولى أكبر

$$\text{القيمة الأولى} = \text{سعر اللتر في القارورة} = ١٣ \div ٢ = ٦.٥$$

$$\text{القيمة الثانية} = \text{سعر اللتر في القارورة} = ٢٨ \div ٥ = ٥.٦$$





س١٧ / قارن بين :

إذا كان ثمن ٣ أقلام ومرسمة يساوي ٧ ريالاً ، وثمان دفتر و٣ أقلام يساوي ١٥ ريال

(القيمة الأولى : ثمن المرسمة) و (القيمة الثانية : ثمن الدفتر)

(أ) القيمة الأولى أكبر	(ب) القيمة الثانية أكبر
(ج) القيمتان متساويتان	(د) المعطيات غير كافية

الحل : (ب) القيمة الثانية أكبر

٣ أقلام + مرسمة = ٧ ريال ، دفتر + ٣ أقلام = ١٥ ريال ((بحذف الـ ٣ أقلام من الطرفين))

مرسمة = ٧ ريال ، دفتر = ١٥ ريال

س١٨ / أي الآتي غير صحيح

(أ) $(1 - 2) \div \text{صفر} = 1$	(ب) $\text{صفر} \div \text{صفر} = \text{صفر}$
(ج) $2 - \text{صفر} = 1$	(د) $\text{صفر} \div 7 = \text{صفر}$

الحل : (ب) $\text{صفر} \div \text{صفر} = \text{صفر}$

لأن $\text{صفر} \div \text{صفر} \neq \text{صفر}$ ($\text{صفر} \div \text{صفر}$: هي قيمة غير معروفة)

س١٩ / ما قيمة $12^3 \div 9^3$ ؟

(أ) ٤	(ب) ١٦
(ج) ٦٤	(د) ١٩٢

الحل : (د) ١٩٢

$$12^3 \div 9^3 = (4 \times 3)^3 \div (3 \times 3)^3 = 4^3 \times 3^3 \div 3^3 \times 3^3 = 4^3 = 64$$

$$3^3 = 27$$

$$192 = 64 \times 3 = 4^3 \times 3 = (4 \times 3)^3 \div (3 \times 3)^3 = 12^3 \div 9^3$$





س٢٠/ مثلث أضلاعه غير متساويه ومحيطه ١٣سم وطول الضلع الاكبر فيه يساوي ٦سم والفرق بين طول الضلعين القصيرين ١سم فما طول أقصر أضلاعه؟

٤ (ب)	٥ (أ)
٢ (د)	٣ (ج)

الحل : (ج) ٣

طول الضلعين الباقيين = ١٢ - ٦ = ٦

$$٤ + ٣ = ٧$$

إذا أضلاع المثلث ٣، ٤، ٦ (٣ هو أقصر أضلاعه)

س٢١/ قارن بين :

(القيمة الأولى : ٠.٤١٠ ÷ ١٠٠) و (القيمة الثانية : ٠.٤٠١ ÷ ١٠٠)

(أ) القيمة الأولى أكبر	(ب) القيمة الثانية أكبر
(ج) القيمتان متساويتان	(د) المعطيات غير كافية

الحل : (أ) القيمة الأولى أكبر

$$\text{القيمة الأولى} = (٠.٤١٠ \div ١٠٠) = ١٠٠ \div ٤١٠ = ١٠٠٠٠ \div ٤١٠$$

$$\text{القيمة الثانية} = (٠.٤٠١ \div ١٠٠) = ١٠٠ \div ٤٠١ = ١٠٠٠٠ \div ٤٠١$$

س٢٢/ إذا كان الفرق بين ثمن قلمين ١٠ ريالاً ومجموع ثمنها ٥٠ ريال فكم ريالاً يبلغ ثمن أقلها سعراً؟

١٥ (أ)	٢٠ (ب)
٢٥ (ج)	٣٠ (د)

الحل : (ب) ٢٠

نفرض العدد الأول س والثاني ص





س - ص = ١٠

س + ص = ٥٠

(بطرح المعادلتين) = ٢- ص = ٤٠- ، ص = ٢٠

إذا العددين ٢٠ ، ٣٠

س٣ / ٢٣ العدد ١٧٢٩ هو مجموع لمكعبي عددين فإذا كان أحد هذين العددين ١٠ فان العدد الاخر هو ؟

٧ (ب)	٦ (أ)
٩ (د)	٨ (ج)

الحل : (د) ٩

١٧٢٩ = مجموع لمكعبي عددين أحدهما ١٠

نفرض ان العدد المكعب هو س ، ١٧٢٩ = س + ١٠^٣

١٧٢٩ = س + ١٠٠٠ ، س = ٧٢٩

٧٢٩ هو مكعب العدد ٩

س٤ / ٢٤ قارن بين :

إذا كان ٢ (س+ص) = ١٨

(القيمة الأولى : (س+ص)^٢) و (القيمة الثانية : ٩)

(ب) القيمة الثانية أكبر	(أ) القيمة الأولى أكبر
(د) المعطيات غير كافية	(ج) القيمتان متساويتان

الحل : (أ) القيمة الأولى أكبر

٢ (س + ص) = ١٨ ، (س + ص) = ٩





القيمة الأولى = $9^2 = 81$

القيمة الثانية = 9

$$= \frac{25}{25} \text{ أبسط قيمة للمقدار } (5^3 - 5^2) \div (5^2 \times 2^2) =$$

١ (ب)	٥ (أ)
٥ ÷ ١ (د)	٥ ÷ ٢ (ج)

الحل : (ب) ١

نبسط البسط بأخذ 5^2 كعامل مشترك فتصبح $5^2(5-1) = 5^2(4)$

نختصر الـ 5^2 من البسط مع المقام ، ونختصر الـ 4 في البسط مع الـ 2^2 في المقام

فيصبح الناتج ١ (لأننا تمكنا من اختصار كل الأرقام الموجودة)

$$= \frac{26}{26} \text{ إذا كان } 15+11+س = 2+3+4+5+6+7+8 ، \text{ فإن قيمة س} =$$

٧ (ب)	٦ (أ)
٩ (د)	٨ (ج)

الحل : (د) ٩

$$س = 2+3+4+5+6+7+8-11-15 = 9$$

$$= \frac{10000}{27} - 99 \times 99 =$$

١٠٠ (ب)	٩٩ (أ)
١٩٩ (د)	١ (ج)

الحل : (د) ١٩٩

الـ 10000 عبارة عن 100^2 ، والـ 99×99 عبارة عن 99^2

فتصبح $100^2 - 99^2 =$





نضك التربيع (١٠٠ - ٩٩) (١٠٠ + ٩٩)

نضك الاقواس ١ × ١٩٩ = ١٩٩

٢٨/ إذا كان اليوم هو الثلاثاء فقبل ١٧ يوم يكون يوم ؟

(أ) السبت	(ب) الأحد
(ج) الخميس	(د) الجمعة

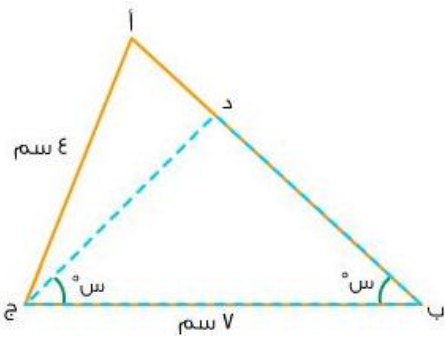
الحل : (أ) السبت

١٧ ÷ ٧ = ٢ والباقي ٣

نعد ٣ ايام من قبل يوم الثلاثاء عد عكسي

الاثنين - الأحد - السبت (إذاً قبل ١٧ يوم يكون يوم السبت)

٢٩/ إذا كان محيط المثلث أ د ج في الشكل يساوي ١٢ سم فإن محيط المثلث أ ب ج يساوي ؟



(أ) ١٥	(ب) ١٩
(ج) ٢٠	(د) ٢١

الحل : (ب) ١٩

محيط المثلث أ د ج = ١٢ ، إذاً محيط أ د ج + د ج = ١٢ - ٤ = ٨

وبما أن أ د ج = د ج + د ب ، إذاً أ د ج + د ب = ٨

إذاً أ ب = ٨ ، ومنه فإن محيط المثلث أ ب ج يساوي ٨ + ٧ + ٤ = ١٩





س٣٠/ يمثل الشكل أدناه نسب تلاميذ الصفوف العليا في إحدة المدارس الإبتدائية ، وبناءً عليه ما عدد التلاميذ في الصف الرابع إذا كان مجموع التلاميذ في الصفوف الثلاثة العليا هو ١٢٠ تلميذ ؟



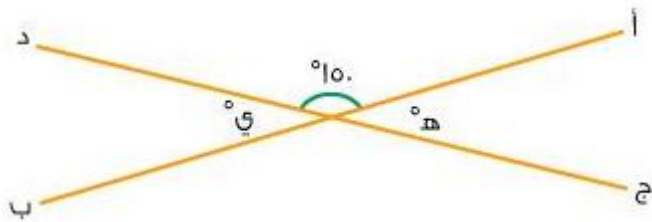
٢٥ (ب)	٢٠ (أ)
٣٥ (د)	٢٠ (ج)

الحل : (ج) ٣٠

الصف الرابع يمثل ٩٠° أي ربع الطلاب

عدد طلاب الصف الرابع : $120 \div 4 = 30$

س٣١/ في الشكل أدناه أ ب ، ج د مستقيمان متقاطعان ، فما قيمة (هـ + ي) ؟



٦٠ (ب)	٣٠ (أ)
١٨٠ (د)	١٢٠ (ج)

الحل : (ب) ٦٠

هـ = ي بالتقابل بالرأس





$$٣٠ = ١٥٠ - ١٢٠ = ٣٠$$

$$٦٠ = ٣٠ + ٣٠ = ٦٠$$

• الأسئلة من ٣٢ - ٣٤ تتعلق بالرسم البياني أدناه

رسم بياني يمثل الإصابات نتيجة حوادث السيارات لدى مستخدمي وغير مستخدمي حزام الأمان.



٣٢/ أكبر فرق في عدد المصابين بين مستخدمي الحزام وغير مستخدمي الحزام كان في عام ؟

(ب) ١٤١٦ هـ	(أ) ١٤١٥ هـ
(د) ١٤١٩ هـ	(ج) ١٤١٨ هـ

الحل : (د) ١٤١٩ هـ

من الواضح أن أكبر فرق كان في سنة ١٤١٩هـ بدون أي حسابات لأن الفرق بينهما ٣ خطوط

٣٣/ عدد المصابين من مستخدمي الحزام في عام ١٤١٦هـ يساوي نصف عدد المصابين من مستخدمي الحزام في عام ؟

(ب) ١٤١٧ هـ	(أ) ١٤١٥ هـ
(د) ١٤١٩ هـ	(ج) ١٤١٨ هـ





الحل : (ج) ١٤١٨ هـ

عدد المصابين من مستخدمي الحزام في عام ١٤١٦ هـ يساوي ١٠

عدد المصابين من مستخدمي الحزام في عام ١٤١٨ هـ يساوي ٢٠

س٤٣/ الفرق بين متوسط المصابين من مستخدمي الحزام ومتوسط المصابين من غير مستخدمي الحزام في عامي ١٤١٨ هـ، ١٤١٩ هـ هو :

٣٥ (أ)	٣٠ (ب)
٢٥ (ج)	٢٠ (د)

الحل : (أ) ٣٥

متوسط المصابين من مستخدمي الحزام في عامي ١٤١٨ هـ، ١٤١٩ هـ = $2 \div (30 + 20) = 25$

متوسط المصابين من غير مستخدمي الحزام في عامي ١٤١٨ هـ، ١٤١٩ هـ = $2 \div (70 + 50) = 60$

الفرق بينهم يساوي $35 = 25 - 60$

س٣٥/ قارن بين :

إذا كان شخص يقطع مضمار في ٦٤ ثانية

(القيمة الأولى : الوقت الذي يحتاجه لقطع المضمار ١٠ مرات) و (القيمة الثانية : ١١ دقيقة)

(أ) القيمة الأولى أكبر	(ب) القيمة الثانية أكبر
(ج) القيمتان متساويتان	(د) المعطيات غير كافية

الحل : (ب) القيمة الثانية أكبر

الشخص يقطع المضمار في ٦٠ ثانية + ٤ ثواني

بمعنى أنه يقطعه في دقيقة و ٤ ثواني





القيمة الأولى : $10 \times$ دقيقة و 4 ثواني = 10 دقائق و 40 ثانية

القيمة الثانية : 11 دقيقة

س٣٦/ إذا كان احمد يملك 220 ريال ويملك خالد 80 ريال اذا كان أحمد يزيد في اليوم 5 ريال و خالد يزيد 12 ريال فمتى يتساوى ما مع خالد بما مع أحمد ؟

(أ) ٢٠ يوم	(ب) ١١ يوم
(ج) ١٨ يوم	(د) ١٠ أيام

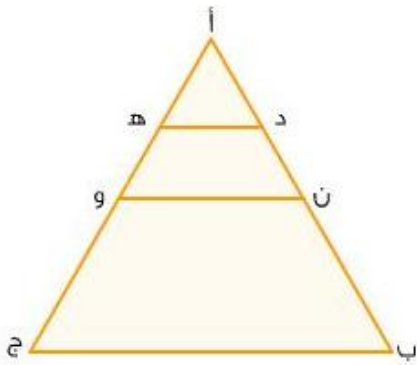
الحل : (أ) ٢٠ يوم

الطريقة الأسرع هي التجريب من الخيارات

بعد 20 يوم يزيد أحمد $5 \times 20 = 100$ ريال ، إذا يصبح ما معه $220 + 100 = 320$ ريال

بعد 20 يوم يزيد خالد $12 \times 20 = 240$ ريال ، إذا يصبح ما معه $80 + 240 = 320$ ريال

س٣٧/ المستقيم ن ويصل بين منتصفى الضلعين أ ب و أ ج ، والمستقيم د ه يصل بين منتصفى الضلعين أن و أ و ، فما نسبتاً ه إلى أ ج ؟



(أ) ١٦ : ٣	(ب) ٤ : ١
(ج) ٣ : ١	(د) ١٣ : ٣

الحل : (ب) ٤ : ١

نفرض أن (أ ب ، أ ج) كل منهما يساوي 4





إذا (أن ، أ و) كل منهما يساوي ٢

وأيضاً (أ د ، أ هـ) كل منهما يساوي ١

إذا نسبة أ هـ إلى أ ج = ١ : ٤

٣٨ / دخل رياضي في منافسه على ١٠ قفزات على أن ينال ٥ ريالاً للقفزه الناجحة وريالين فقط للقفزه الخاسره وفي نهايه المنافسه جمع الرياضي ٤١ ريالاً فما عدد القفزات الخاسرة ؟

٥ (ب)	٣ (أ)
١٠ (د)	٧ (ج)

الحل : (أ) ٣

نفرض أن عدد القفزات الناجحة هو س يكون الربح $5 \times س$

عدد القفزات الخاسره ١٠ - س يكون الربح $٢ \times (١٠ - س)$

$$٢٠ + ٢٠ - ٢٠ = ٢٠ - ٤١ = ٢٠ - ٤١$$

$$٢١ = س ، ٧ = س$$

إذا عدد القفزات الناجحه = ٧ ، عدد القفزات الخاسره = ١٠ - ٧ = ٣

((حل آخر)) بالتجربه من الخيارات

بالتجريب ب ٣ إذا الخاسره $٢ \times ٣ = ٦$

الناجحه تكون $١٠ - ٣ = ٧$ ، $٧ \times ٥ = ٣٥$

$$٤١ = ٦ + ٣٥$$





س٣٩/ عدد مكون من خانتين ، مجموع الخانتين يساوي ١٢ ، وإذا عكست الخانتين فقد العدد ١٨ من قيمته ، فما هو ذلك العدد ؟

٧٥ (ب)	٨٤ (أ)
٤٨ (د)	٥٧ (ج)

الحل : (ب) ٧٥

بالتجربة من الخيارات ، ٧٥ مجموع الخانتين $٥ + ٧ = ١٢$

وإذا عكست الخانتين أصبح ٥٧

$١٨ = ٥٧ - ٧٥$ (بما أنه تنطبق عليه الشرط في السؤال إذاً هو الاختيار الصحيح)

يوم الخميس ١٧ / ٣ / ١٤٣٤ هـ

س١/ امرأة اشترت ٣ عطور ، الأول بكامل القيمة والثاني بنصف القيمة والثالث بربع القيمة ودفعت ٧٠٠ ريال ، فما قيمة العطر كامل ؟

٤٠٠ ريال (ب)	٣٠٠ ريال (أ)
٢٥٠ ريال (د)	٢٠٠ ريال (ج)

الحل : (ب) ٤٠٠ ريال

نفرض أن قيمة العطر كاملة = ٤س (لأن ٤ تقبل على ٤ و ٢)

نصفها = ٢س ، ربعها = س

فيكون ما دفعته : $٤س + ٢س + س = ٧٠٠$

$٧س = ٧٠٠$

س = ١٠٠ ، إذاً $٤س = ٤٠٠$





$$س٢ / ما قيمته : \frac{(9-11)5-(9-11)8}{3} =$$

٣ (ب)	٩ (أ)
٢ (د)	٦ (ج)

الحل : (د) ٢

ترتيب العمليات : نبسط البسط أولاً ثم نقسمه على المقام :

الأقواس ، ثم الضرب ، ثم الطرح ، ثم القسمة على المقام .

$$= (٢) ٥ - (٢) ٨$$

$$٦ = ١٠ - ١٦$$

$$٢ = ٣ \div ٦$$

٣/ ورقة مربعة الشكل قسمت على شكل مستطيلين متطابقين محيط الواحد منها ١٢ ،

فكم مساحة الورقة المربعة ؟

٣٦ (ب)	١٤٤ (أ)
١٦ (د)	٦٤ (ج)

الحل : (د) ١٦

نفرض أن طول ضلع الورقة المربعة = ٢س ، قسمت لمستطيلين متطابقين فيكون الطول

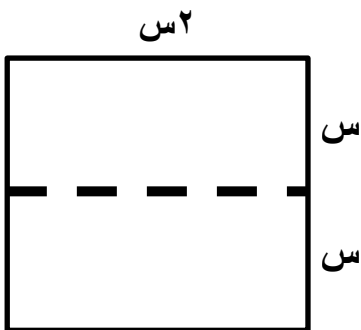
لكلاهما = ٢س ، والعرض = س

وبما أن محيط المستطيل الواحد = ١٢ ؛ يكون :

$$٢(٢س + س) = ١٢ \quad \text{بالقسمة على ٢}$$

$$٦ = ٢س \quad \text{بالقسمة على ٢}$$

س = ٢ ، ٢س = ٤ ، إذاً ضلع الورقة المربعة = ٤ سم ، فتكون مساحتها = ٤ × ٤ = ١٦ .





س٤/ إذا علمنا أن $١ = ٧$ وأن $٧ = ١٠$ ، فما مجموع قيمة الحروف في الشكل :

٧٧٧

٧٧٧

٧٧٧

٧٧

٧٧

٢٥ (ب)	٩٤ (أ)
٥٢ (د)	٤٩ (ج)

الحل : (ج) = ٤٩

يوجد ٩ من ٧ ، فيكون $٩ = ١ \times ٩$

يوجد ٤ من ٧ - فيكون $٤٠ = ١٠ \times ٤$

المجموع = ٤٩

س٥/ عدد الطلاب في المدرسة = ٣٠٠ طالب ، عدد الراسبين ٦٠ ، فكم عدد الناجحين ؟



١٥٠ طالب (ب)	٥٠ طالب (أ)
١٢٠ طالب (د)	١٠٠ طالب (ج)

الحل : (ب) = ١٥٠ طالب





عدد الطلاب الناجحين يمثلون نصف عدد طلاب المدرسة لأن زاوية قطاع الطلاب الناجحين = 180 درجة

لذا يكون عددهم = $300 \div 2 = 150$

٦/ تابع الرسم البياني السابق : كم عدد الراسبين ؟

(أ) طالب 50	(ب) طالب 150
(ج) طالب 100	(د) طالب 120

الحل : (أ) طالب 50

زاوية قطاع الطلاب الراسبين = 60° من نصف الدائرة ، أي $180 \div 60$

ونصف الدائرة يمثل 150 طالب ، فيكون عدد الراسبين = $150 \times (180 \div 60) = 50$ طالب

٧/ تابع الرسم البياني السابق : كم عدد المتغيبين ؟

(أ) طالب 50	(ب) طالب 150
(ج) طالب 100	(د) طالب 120

الحل : (ج) طالب 100

بما أن نصف الدائرة = 150 طالب ، ونصف الدائرة يمثل قطاعي الراسبين والمتغيبين

وأوجدنا عدد الراسبين = 50 ، فإن عدد المتغيبين = $150 - 50 = 100$ طالب .

٨/ باع شخص سيارته بمبلغ 45000 ريال وقد خسر فيها 10% ، فبكم اشتراها ؟

(أ) 50 ألف	(ب) 48 ألف
(ج) 46 ألف	(د) 62 ألف

الحل : (أ) 50 ألف

نفرض أن السعر الأصلي = س ، النسبة المئوية للسعر الأصلي = 100%

خسر 10% إذا باعها بنسبة 90% من سعرها الأصلي ؛



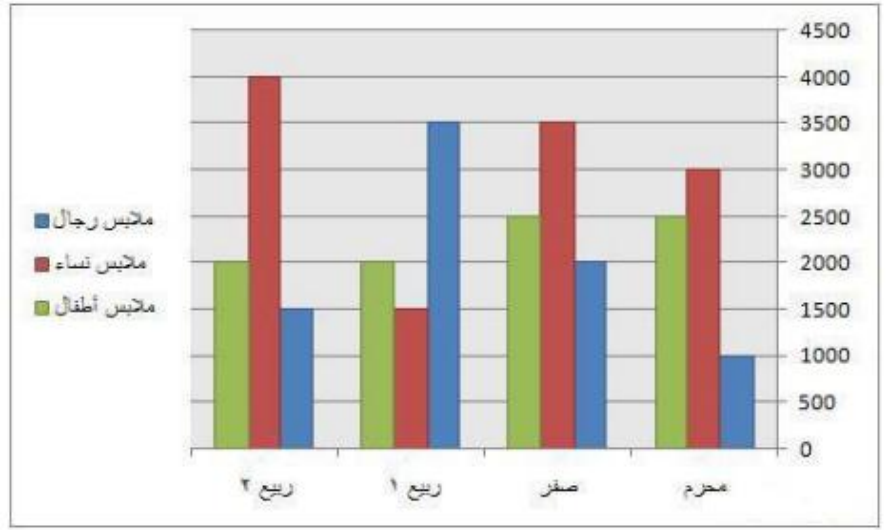


$$\text{فيكون } 45000 = \frac{90}{100} \times \text{س}$$

$$\text{س} = \frac{45000 \times 100}{90}$$

س = 50 ألف ريال .

• الأسئلة من ٩ - ١٢ تتعلق بالرسم البياني التالي :



٩/ في أي شهر كانت مبيعات ملابس الرجال أكثر ما يمكن ؟

(أ) محرم	(ب) صفر
(ج) ربيع ١	(د) ربيع ٢

الحل : (ج) ربيع ١

يظهر من الرسم أن مبيعات الرجال كانت أكثر ما يمكن في شهر ربيع الأول .

١٠/ في أي شهر كانت مبيعات ملابس النساء أقل ما يمكن ؟

(أ) محرم	(ب) صفر
(ج) ربيع ١	(د) ربيع ٢

الحل : (ج) ربيع ١

يظهر من الرسم أن مبيعات النساء كانت أقل ما يمكن في شهر ربيع الأول .





س١١/ ما هو أكثر شهر في مجموع المبيعات ؟

(أ) محرم	(ب) صفر
(ج) ربيع ١	(د) ربيع ٢

الحل : (ب) صفر

لأن مجموع المبيعات = ٢٥٠٠ + ٣٥٠٠ + ٢٠٠٠ = ٨٠٠٠

س١٢/ ما هو أقل شهر في مجموع المبيعات ؟

(أ) محرم	(ب) صفر
(ج) ربيع ١	(د) ربيع ٢

الحل : (أ) محرم

لأن مجموع المبيعات = ٢٥٠٠ + ٣٠٠٠ + ١٠٠٠ = ٦٥٠٠

س١٣/ رجل طوله ٣٠٠ وحدة طول وطول ظله ٦٠٠ وحدة طول ، فإذا كان هناك مأذنة طول

ظلها ١٢٠٠ وحدة طول فكم طول المأذنة ؟

(أ) ٤٥٠	(ب) ٦٠٠
(ج) ٥٤٠	(د) ٧٢٠

الحل : (ب) ٦٠٠

نسنتنتج من السؤال أن طول الظل ضعف الطول الحقيقي

إذا الطول الحقيقي نصف طول الظل

طول ظل المأذنة = ١٢٠٠ إذا طولها الحقيقي = ٦٠٠

س١٤/ لدينا عدد ما بحيث ، العدد + ثلاث أمثال العدد + ٥ = خمسة أمثال العدد ، فما هو العدد

(أ) ٥	(ب) ٤
(ج) ٦	(د) ٣





الحل : (أ) ٥

بفرض أن العدد الأصلي = س

$$س + ٣س + ٥ = ٥س$$

$$٤س + ٥ = ٥س$$

$$س = ٥$$

١٥/ تاجر يبيع كيلو التمر بسعر ٥ ريال ، وكل ٢ كيلو تشتريهم تحصل على كيلو ثالث مجاناً ، وتاجر آخر يبيع كيلو التمر بسعر ٣ ريال ، فما الفرق في قيمة ٦ كيلو تمر من كل منهما ؟

(أ) ٢ ريال	(ب) ١ ريال
(ج) ٣ ريال	(د) ٤ ريال

الحل : (أ) ٢ ريال

للتاجر الأول : يمكن شراء ٢ كيلو من التمر بسعر $٢ \times ٥ = ١٠$ ، ونحصل على ثالث مجاناً

أي أن كل ثلاثة كيلو يتم شراؤهم بـ ١٠ ريالات ، فيكون كل ستة كيلو بسعر ٢٠ ريال.

للتاجر الثاني : الكيلو الواحد بثلاث ريالات ؛ أي أن الستة كيلو بـ $٦ \times ٣ = ١٨$ ريال.

الفرق بين العرضين = $٢٠ - ١٨ = ٢$ ريالان .

١٦/ قارن بين :

(القيمة الأولى : جذر [٤٩ + ٢٤]) و (القيمة الثانية : ١٢)

(أ) القيمة الأولى أكبر	(ب) القيمة الثانية أكبر
(ج) القيمتان متساويتان	(د) المعطيات غير كافية

الحل : (ب) القيمة الثانية أكبر





القيمة الأولى : نقوم بجمع ما تحت الجذر فيكون (جذر ٧٣)

القيمة الثانية : ١٢ ؛ أي (جذر ١٤٤)

فتكون القيمة الثانية أكبر .

س١٧ / قارن بين :

إذا كان أضلاع المثلث هي : ٤ ، ٦ ، س

(القيمة الأولى : س) و (القيمة الثانية : ١٠)

(أ) القيمة الأولى أكبر	(ب) القيمة الثانية أكبر
(ج) القيمتان متساويتان	(د) المعطيات غير كافية

الحل : (ب) القيمة الثانية أكبر

الضلع الثالث في أي مثلث ينبغي أن يكون أصغر من مجموع طولي الضلعين الآخرين

وأكبر من الفرق بينهما ؛ أي أن

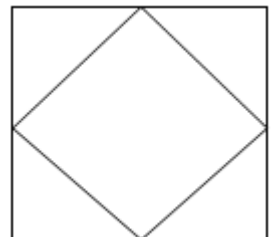
$$٤ - ٦ > س > ٤ + ٦$$

$$١٠ > س > ٢$$

الضلع الثالث يكون أصغر من ١٠ ، إذا القيمة الثانية أكبر .

س١٨ / أوجد النسبة بين مساحة المربع الصغير إلى مساحة المربع الكبير حيث أن رؤوس

المربع الصغير تمر في النقاط المنصفة لأضلاع المربع الكبير ؟

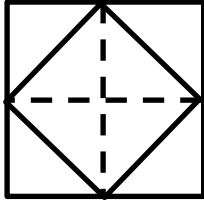




١ : ٢ (ب)	٢ : ١ (أ)
٤ : ١ (د)	٣ : ٢ (ج)

الحل : (أ) ٢ : ١

نجد أن المربع الكبير يتكون من ثمان مثلثات متطابقة ؛ بينما يتكون المربع الأصغر من ٤



مثلثات متطابقة

فتكون نسبة الأصغر للأكبر = $\frac{1}{2} = \frac{4}{8}$

$$= \frac{1}{100} + \frac{0.1}{10} + \frac{1}{100} / ١٩$$

٠.١ (ب)	٠.٠١ (أ)
٠.٠٢ (د)	٠.٠٣ (ج)

الحل : (ج) ٠.٠٣

$$٠.٠٣ = ٠.٠١ + ٠.٠١ + ٠.٠١$$

$$= ٢ \div \{ ٢ \div [٢ \div (٢ \div س)] \} / ٢٠$$

٤ ÷ س (ب)	٨ ÷ س (أ)
١٦ ÷ س (د)	١٦ ÷ س (ج)

الحل : (ج) ١٦ ÷ س

نقسم بالتتالي ؛ نُقلب القسمة لضرب × المعكوس الضربي فيكون : $\frac{س}{16} = \frac{1}{2} \times \frac{1}{2} \times \frac{1}{2} \times \frac{س}{2}$

٢١ / تكافتة ارسال برقية لأول ١٥ كلمة هو ريالان وبعد ذلك ١٢.٥ هللته للكلمة ، فكم

عدد الكلمات الممكنة في ٤ ريال ؟

٣١ (ب)	٣٠ (أ)
٣٤ (د)	٣٢ (ج)





الحل : (ب) ٣١

أول ريالان يتم ارسال ١٥ كلمة بهما ، الريالان الباقيان فيهما ٢٠٠ هللت ؛ وتكون الكلمة الواحدة بسعر ١٢.٥ هللت

$$\text{أي أن عدد الكلمات الممكن ارسالها} = \frac{200}{12.5} = \frac{400}{25} = ١٦ \text{ كلمة}$$

مجموع الكلمات = ١٥ + ١٦ = ٣١ كلمة .

٢٢س / قارن بين :

(القيمة الأولى : عدد العوامل الأولية للعدد ٣٠)

(القيمة الثانية : عدد العوامل الأولية للعدد ٦٠)

(أ) القيمة الأولى أكبر	(ب) القيمة الثانية أكبر
(ج) القيمتان متساويتان	(د) المعطيات غير كافية

الحل : (ج) القيمتان متساويتان

بتحليل العدد ٣٠ نجد أن العوامل الأولية هي : ٢ ، ٣ ، ٥ (إذا عددهم ثلاث عوامل)

وبتحليل العدد ٦٠ نجد أن العوامل الأولية هي : ٢ ، ٣ ، ٥

(عدد العوامل ثلاثة فقط ؛ العامل ٢ نحسبه مرة واحدة ولا يُعدّ بتكراره) .

إذا القيمتان متساويتان .

٢٣س / بركة سباحة مملوءة بالماء ، ينقص ثلثها في فصل الصيف فإذا كان حجمها في فصل

الصيف ٣٦٠٠ م^٣ ، فكم يكون حجمه كاملاً ؟

(أ) ١٨٠٠ م ^٣	(ب) ٤٨٠٠ م ^٣
(ج) ٥٤٠٠ م ^٣	(د) ٧٢٠٠ م ^٣





الحل : (ج) ٥٤٠٠ م^٢

نفرض أن حجم البركتة كاملاً = ٣س ، ثلثها = س ، نقص ثلثها أي أصبحت ٢س

حجمها بعد النقصان = ٣٦٠٠ ، أي أن : ٢س = ٣٦٠٠

س = ١٨٠٠ ، إذا حجمها بالكامل = ٣س = ٣ × ١٨٠٠ = ٥٤٠٠ م^٢

$$\frac{3}{7} + \frac{2}{6} + \frac{1}{3} \quad / ٢٤$$

١٤ (ب)	١٦ (أ)
١٧ (د)	١٥ (ج)

الحل : (أ) ١٦

مقام المقام بسط ؛ فيكون :

$$\frac{7 \times 3}{3} + \frac{2 \times 6}{2} + \frac{3}{1}$$

$$١٦ = ٧ + ٦ + ٣ =$$

$$\frac{\frac{1}{س} + 1}{\frac{1}{س} + 1} \quad / ٢٥$$

١ + س ^٢ (ب)	(أ) (١ + س) ÷ (١ + س ^٢)
(١ - س) ÷ (١ + س) (د)	(ج) س ^٢ ÷ (١ + س)

الحل : (أ) (١ + س) ÷ (١ + س^٢)

بضرب كل من البسط والمقام × س

$$\text{البسط : س} = \left(\frac{1}{س} + 1 \right) \times (١ + س)$$





$$\text{المقام : س} \times \left(\frac{1}{س} + س \right) = (س^2 + 1)$$

$$\text{البسط } \div \text{المقام} = (س + 1) \div (س^2 + 1)$$

س٢٦/ ترتيب محمد في الصف الحادي عشر من البداية والحادي عشر من النهاية ، فما مجموع الطلاب ؟

(أ) طالب ٢٢	(ب) طالب ٢١
(ج) طالب ٢٠	(د) طالب ٢٣

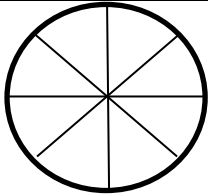
الحل : (ب) طالب

$$١١ + ١١ - ١ = ٢١ \text{ (قمنا بطرح ١ لكي لا يتم حساب محمد مرتين)}$$

س٢٧/ وضع داخل دائرة ٤ مستقيمت تمر بالمركز فإنها تقسم الدائرة إلى كم جزء ؟

(أ) ٨	(ب) ١٠
(ج) ١١	(د) ٩

الحل : (أ) ٨



عدد الأجزاء يساوي $٨ = ٤ \times ٢$ (في حالة المرور في المركز فقط)

س٢٨/ أي مما يلي يجمع جميع الأعداد التي تقبل القسمة على ٢ ؟

(أ) الأعداد التي أحادها رقم زوجي (٨، ٦، ٤، ٢، ٠)	(ب) الأعداد التي أحادها رقم زوجي (٨، ٦، ٤، ٢، ٠)
(ج) الأعداد التي أحادها رقم زوجي (٨، ٦، ٤)	(د) الأعداد التي تقبل القسمة على ٤

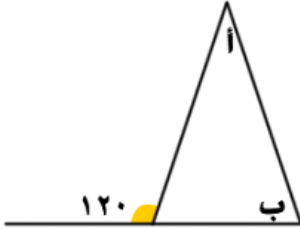
الحل : (ب) الأعداد التي أحادها رقم زوجي (٨، ٦، ٤، ٢، ٠)

الخيار الأشمل هو ب لأن الأعداد التي تقبل القسمة على ٢ هي التي أحادها رقم زوجي + صفر





س٢٩ / قارن بين :



(القيمة الأولى : أ + ب) و (القيمة الثانية : ١٢٥)

(أ) القيمة الأولى أكبر	(ب) القيمة الثانية أكبر
(ج) القيمتان متساويتان	(د) المعطيات غير كافية

الحل : (ب) القيمة الثانية أكبر

قياس الزاوية الخارجة لمثلث = مجموع قياس الزاويتين غير المجاورة

أي أن قياس أ+ب = ١٢٠ درجة ، لذا تكون القيمة ١٢٥ أكبر.

س٣٠ / قارن بين :

إذا كان ل يساوي المتوسط الحسابي لعددین زوجيين متتاليين

(القيمة الأولى : ٢) و (القيمة الثانية : باقي قسمت ل على ٢)

(أ) القيمة الأولى أكبر	(ب) القيمة الثانية أكبر
(ج) القيمتان متساويتان	(د) المعطيات غير كافية

الحل : (أ) القيمة الأولى أكبر

ل يساوي المتوسط الحسابي لعددین زوجيين متتاليين تعني أن ل عدد فردي

القيمة الأولى : ٢


القيمة الثانية : باقي قسمت ل على ٢ (باقي قسمت أي عدد فردي على ٢ يساوي ١)

إذا القيمة الأولى أكبر في كل قير ل





س٣١/ إذا كانت مساحة المربع تساوي ١٠٠ م^٢ ، فاحسب مساحة الدائرة ؟



(ب) ١٠٠ ط	(أ) ٥٠ ط
(د) ٥٠ (جذر ٢) ط	(ج) ١٠٠ (جذر ٢) ط

الحل : (أ) ٥٠ ط

لايجاد مساحة الدائرة لا بد من معرفة نصف قطرها ؛

ونلاحظ من الرسم أن قطر المربع = قطر الدائرة

نوجد قطر المربع من قانون مساحة المربع بمعلومية قطره :

$$١٠٠ = ل^٢ \times \frac{1}{2}$$

$$إذاً جذر ل^٢ = جذر ٢٠٠$$

$$ل = ١٠ = جذر ٢ = القطر$$

إذاً نصف القطر = ٥ جذر ٢ ، فتكون مساحة الدائرة = (٥ جذر ٢) ط = ٥٠ ط .

س٣٢/ ينفق أحمد ١٢٠٠ ريال على شراء الكتب وهذا المبلغ يمثل ١٥% من راتبه ، فكم راتبه


بالكامل ؟

(ب) ٦٠٠٠	(أ) ٤٠٠٠
(د) ١٠٠٠٠	(ج) ٨٠٠٠

الحل : (ب) ٨٠٠٠

نفرض أن راتبه كامل = س ، إذاً $\frac{15}{100} \times س = ١٢٠٠$ ريال





$$س = (1200 \times 100) \div 15$$

$$س = 8000 \text{ ريال} .$$

س٣٣/ إذا انتهى الاختبار الساعة ١:٣٥ وكانت مدة الاختبار ساعتين و ٤٠ دقيقة فمتى بدأ الاختبار؟

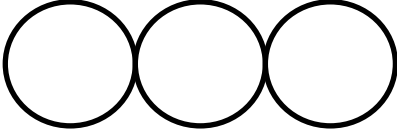
١٠:٤٥ (ب)	١٠:٥٥ (أ)
١٠:٥٠ (د)	١٠:٤٠ (ج)

الحل : (أ) ١٠:٥٥

قبل ساعتين من انتهاء الاختبار كانت الساعة = ١١:٣٥

قبل ٤٠ دقيقة من الساعة ١١:٣٥ تكون الساعة ١٠:٥٥

س٣٤/ أوجد محيط الشكل المقابل إذا علمت أن نصف قطر الدائرة الواحدة = ١



٢٤ ط (ب)	٢ ط (أ)
٣ ط (د)	٦ ط (ج)

الحل : (ج) ٦ ط

محيط الشكل = مجموع محيط الثلاث دوائر

محيط الدائرة الواحدة = ٢ ط ، محيط ثلاث دوائر = ٦ ط

س٣٥/ قارن بين :

إذا كان المثلث أ ب ج فيه | أ ب | = ٦ ، | ب ج | = ٤ =

(القيمة الأولى : | أ ج |) و (القيمة الثانية : ١٠)





(ب) القيمة الثانية أكبر	(أ) القيمة الأولى أكبر
(د) المعطيات غير كافية	(ج) القيمتان متساويتان

الحل : (ب) القيمة الثانية أكبر

الضلع الثالث في أي مثلث ينبغي أن يكون أصغر من مجموع طولي الضلعين الآخرين

وأكبر من الفرق بينهما ؛ أي أن

$$4 - 6 > | أ ج | > 4 + 6$$

$$10 > | أ ج | > 2$$

الضلع الثالث لا بد أن يكون أصغر من ١٠ ، إذا القيمة الثانية أكبر .

س٦٣ / أصغر الكسور التالية ؟

(ب) (٥ ÷ ٤)	(أ) (٦ ÷ ٥)
(د)	(ج) (٢٣ ÷ ٢٠)

الحل : (ب) (٥ ÷ ٤)

بتجريب الخيارات :

- نقارن الخياراً بالخيار ب ، ثم نقارن أصغرهم بالخيار ج ؛

$\frac{4}{5}$ ، $\frac{5}{6}$ ، طرفين بوسطين :

$24 < 25$ ، اذن الكسر $\frac{4}{5}$ أصغر ،،

-نقارنه بالخيار ج

$\frac{20}{23}$ ، $\frac{4}{5}$ ، طرفين بوسطين :





٩٢ > ١٠٠ ، اذن ٥ / ٤ أصغر الخيارات الموجودة ، اذا كان هناك خيار د نقارنه مع الكسر الأصغر ،

إذا الكسر الأصغر من بين الخيارات الموجودة = $\frac{4}{5}$.

س٣٧ / قارن بين :

(القيمة الأولى : $\frac{87.999 \times 0.75}{1.999}$) و (القيمة الثانية : ٣٠)

(أ) القيمة الأولى أكبر	(ب) القيمة الثانية أكبر
(ج) القيمتان متساويتان	(د) المعطيات غير كافية

الحل : (أ) القيمة الأولى أكبر

القيمة الأولى : بالتبسيط والتقريب للوسط نجد أنه = $\frac{4}{3} \times 88 = 66$

والقيمة ١.٩٩٩ في المقام قريبة جداً من ٢ ، إذاً $66 \div 2 = 33$

القيمة الثانية : ٣٠

إذا القيمة الأولى أكبر من الثانية .

س٣٨ / ماكينة عصير تنتج ١٠٠ علبة عصير كل خمس دقائق فبعد كم دقيقة تنتج ١٢٠٠ علبة

(أ) ٥٠ دقيقة	(ب) ٥٥ دقيقة
(ج) ٦٠ دقيقة	(د) ٧٠ دقيقة

الحل : (ج) ٦٠ دقيقة

١٠٠ علبة ----- ٥ دقائق (بالضرب في ١٢)

١٢٠٠ علبة ----- ٦٠ دقيقة





٣٩٠ / طائرة تصل إلى الأحساء في ٢٤٠ دقيقة من مسافة ٣٦٠ كم ، فاحسب السرعة التي كانت تسير بها الطائرة ؟

(ب) ٦٠ كم / ساعة	(أ) ٩٠ كم / ساعة
(د) ١٠٠ كم / ساعة	(ج) ١٢٠ كم / ساعة

الحل : (أ) ٩٠ كم / ساعة

بالنظر للوحدات في الخيارات نجد السرعة محسوبة بالـ كم / ساعة ؛

إذاً لابد أن نقوم بتحويل الدقائق في السؤال إلى ساعات ؛ $٢٤٠ \div ٦٠ = ٤$ ساعات

السرعة = المسافة \div الزمن

السرعة = $٣٦٠ \div ٤ = ٩٠$ كم / ساعة .

٤٠٠ / اي مما يلي يجمع جميع الأرقام التي تقبل القسمة على (٢) بدون باقي ؟

(ب) الأعداد التي أحادها رقم زوجي فقط	(أ) الأعداد الزوجية فقط
(د) الأعداد التي تقبل القسمة على ٤ فقط	(ج) الأعداد التي أحادها صفر فقط

الحل : (أ) الأعداد الزوجية فقط

نعلم أن الأعداد التي تقبل القسمة على العدد ٢ هي الأعداد الزوجية والخيار (أ) هو الأشمل

٤١٠ / إذا ربعنا العدد ١٢ فكم باقي قسمته على ٤ ؟

(ب) ٢	(أ) ١
(د) صفر	(ج) ٣

الحل : (د) صفر

بما أن العدد ١٢ يقبل القسمة على ٤ بدون باقي إذن مربعه يقبل القسمة أيضاً على ٤ بدون باقي ؛

$١٤٤ \div ٤ = ٣٦$ والباقي صفر .





س٤٢/ إذا ضاعفنا العدد ١٢ فكم باقي قسمتة على ٤ ؟

٢ (ب)	١ (أ)
٤ (د) صفر	٣ (ج)

الحل : (د) صفر

بمضاعفة العدد ١٢ يكون الناتج ٢٤ ، بالقسمة على ٤ يكون الناتج ٦ والباقي صفر .

$$= ٤٣ / [(٢-١١)٥ - (٢-١١)٨] = ٣ \div$$

٩ (ب)	٦ (أ)
٢٧ (د)	١ (ج)

الحل : (ب) ٩

بأخذ (٢-١١) عامل مشترك من البسط ينتج :

$$٩ = ٣ \div ٢٧ ، ٢٧ = ٣ \times ٩ = (٥ - ٨) \times (٢ - ١١)$$

س٤٤/ قارن بين :

إذا كان تاجر يبيع إطار ومعه إطار مجاناً بـ ٣٥٠ ريال وتاجر آخر يبيع ٤ إطارات بـ ٧٢٠ ريال

وكان رجل يريد تبديل إطاراته الأربعة

(القيمة الأولى : العرض الأول) و (القيمة الثانية : العرض الثاني)

(ب) القيمة الثانية أكبر	(أ) القيمة الأولى أكبر
(د) المعطيات غير كافية	(ج) القيمتان متساويتان

الحل : (أ) القيمة الأولى أكبر

العرض الأول : بما أن كل إطار معه إطار مجاناً بقيمتة ٣٥٠ ، أي أن الإطارين بـ ٣٥٠ :

$$٧٠٠ = ٢ \times ٣٥٠$$





العرض الثاني : الأربع إطارات ب ٧٢٠

ملاحظة : المقارنة في السؤال بين العروض (بمعنى أي العرض الأفضل للرجل) ولو كانت المقارنه بين القيم لكانت القيمة الثانية أكبر

س٤٥ / قارن بين :

(القيمة الأولى : جذر [٤٥ + ٣٩]) و (القيمة الثانية : ١٢)

(أ) القيمة الأولى الأكبر	(ب) القيمة الثانية أكبر
(ج) القيمتان متساويتان	(د) المعطيات غير كافية


الحل : (ب) القيمة الثانية أكبر

القيمة الأولى : نقوم بجمع ما تحت الجذر فيكون (جذر ٨٤)

القيمة الثانية : ١٢ ، أي (جذر ١٤٤)

فتكون القيمة الثانية أكبر .

س٤٦ / إذا كانت مساحة المربع تساوي ١٠٠ فاحسب مساحة الدائرة ؟



(أ) ٥٠ ط	(ب) ٢٥ ط
(ج) ٥ جذر ٢ ط	(د)

الحل : (ب) ٢٥ ط

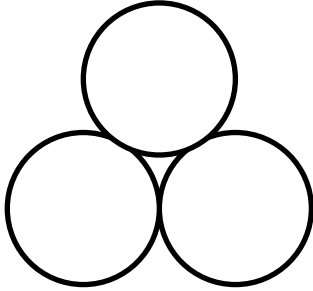
طول ضلع المربع = ١٠ = طول قطر الدائرة

مساحة الدائرة = $\text{نق}^2 ط = ٥^2 ط = ٢٥ ط$





س٤٧ / احسب محيط الشكل إذا كان نصف قطر الدائرة الواحدة يساوي ١



ط٢ (ب)	ط٣ (أ)
ط٩ (د)	ط٦ (ج)

الحل : (ج) ط٦

محيط الدائرة = ٢ نق ط = ٢ × ١ × ط = ط٢

محيط الثلاث دوائر = ٣ × ط٢ = ط٦

ملاحظة : محيط الشكل يجب حذف الجزء المشترك في كل الدوائر وسيكون محيط الشكل ٥ ط ولعدم وجود ٥ ط في الاختيارات إذا المقصود من السؤال محيط الثلاث دوائر

س٤٨ / إذا كانت المسافة بين مدينتين تساوي ٣٥٠ كم وقطعها رجل في ثلاث ساعات ونصف فكم كانت سرعته ؟

١٠٠ كم / ساعة (ب)	٩٠ كم / ساعة (أ)
١٢٠ كم / ساعة (د)	١١٠ كم / ساعة (ج)

الحل : (ب) ١٠٠ كم / ساعة

السرعة = المسافة ÷ الزمن

$$\text{السرعة} = \frac{3500}{35} = \frac{350}{3.5} = 100 \text{ كم / ساعة}$$





س٤٩/ أوجد الحد الناقص : ١ ، ٦ ، ، ١٦ ، ٢١

٥ (ب)	١٠ (أ)
١١ (د)	١٢ (ج)

الحل : (د) ١١

الحد الثابت = ٥+

$$٦ = ٥ + ١$$

$$١١ = ٥ + ٦$$

$$١٦ = ٥ + ١١$$

$$٢١ = ٥ + ١٦$$

س٥٠/ إذا كانت ثمن الثلاجه ٤٥٠٠ بعد تخفيض ١٠% ، فما ثمن الثلاجه قبل التخفيض ؟

٤٨٠٠ (ب)	٤٦٠٠ (أ)
٥٢٠٠ (د)	٥٠٠٠ (ج)

الحل : (ج) ٥٠٠٠

من نص السؤال نستنتج أن :

$$٤٥٠٠ = ٩٠\% \text{ (بالقسمة على ٩)}$$

$$٥٠٠ = ١٠\% \text{ (بالضرب في ١٠)}$$

$$٥٠٠٠ = ١٠٠\%$$

س٥١/ إذا كان مجموع ثلاثة أعداد يساوي ١٥٣ فما متوسط الحسابي ؟

٥٢ (ب)	٥١ (أ)
٥٥ (د)	٥٣ (ج)





الحل : (أ) ٥١

المتوسط الحسابي = مجموع الأعداد ÷ عددهم

$$٥١ = ٣ ÷ ١٥٣ =$$

٥٢/ سائق دراجه يقطع مسافه ١٠٠ كيلو متر في ٧ ساعات ، فإذا قطع نفس المسافه بنفس
السرعه ولكنه يتوقف بعد كل ساعه بمقدار ١٥ دقيقه فما هو الزمن المستغرق للتوقف
كاملاً بالدقائق ؟

(ب) ٦٠ دقيقه	(أ) ١٠٥ دقيقه
(د) ٩٠ دقيقه	(ج) ٧٥ دقيقه

الحل : (د) ٩٠ دقيقه

بما أنه يقطع المسافه كامله في ٧ ساعات ، وسيتوقف مره بعد كل ساعه اذن عدد مرات
التوقف = ٦ مرات فقط ؛ لأن سيكون خط سيره كالاتي :

ساعه | توقف | ساعه | توقف | ساعه | توقف | ساعه | توقف | ساعه | توقف | ساعه |
توقف | ساعه.

كل مره منها = ١٥ دقيقه ؛ إذاً $٦ \times ١٥ = ٩٠$ دقيقه توقف

يوم الأربعاء ٢٥ / ٣ / ١٤٣٤ هـ

١/ إذا كان جذر (٢ + س) = ٣ ، فإن س =

(ب) ٧	(أ) ٥
(د) ١١	(ج) ٩





الحل : (ب) ٧

(بتربيع الطرفين)

$$3 = (س + 2)$$

$$9 = س + 2$$

$$س = 9 - 2$$

$$س = 7$$

س٢/ عدد تربيعه + ٣ يساوي أربعة أمثاله ، فما هو العدد ؟

٢ (ب)	(أ) صفر
٥ (د)	٣ (ج)

الحل : (ج) ٣

نفرض أن العدد هو (س)

$$س^2 = 3 + 4س$$

$$س^2 - 4س - 3 = 0$$

$$0 = (س - 3)(س + 1)$$

س=٣ أو س=١ (الموجود في الاختيارات هو العدد ٣)

س٣/ اسطوانة مملوءة حتى سدسها ، فإذا أضفنا ٦ لترات امتلأت إلى النصف ، إذا الاسطوانة

تتسع لـ ؟

١٠ لتر (ب)	٨ لتر (أ)
١٨ لتر (د)	١٢ لتر (ج)

الحل : (د) ١٨ لتر

إذا ٦ لترات تمثل : $(2 \div 1) - (6 \div 1) = 3 \div 1$





٦ لترات = ٣ ÷ ١ من الأنبوب

إذا الأنبوب كله يتسع ل ٣ × ٦ = ١٨ لتر

$$\text{س/} [(\text{جذر} ٢)^٢ + (\text{جذر} ٢)^٢] \div [(\text{جذر} ٢)^٢ + (\text{جذر} ٢)^٢]$$

(ب)	(أ)
(د)	(ج)

الحل :

البسط : نأخذ عامل مشترك $(\text{جذر} ٢)^٢ [١ + ٢]$

المقام : $٤ \times ٢ = (\text{جذر} ٢)^٢ = ٨ = (\text{جذر} ٢)^٢$

نختصر $(\text{جذر} ٢)^٢$ مع $(\text{جذر} ٢)^٢$ ، يساوي $٣ ٢$

$$٧٢ = ٩ \times ٨ = (١ + ٨) \times ٨ = [١ + ٢] \times ٣ ٢$$

٥/ علبة شاي تحتوي على ١٢٥ جرام من الشاي تباع ب ٢.١ ريال ، فكم سعر واحد كيلو

جرام من نفس نوع الشاي ؟

(ب)	(أ)
(د)	(ج)

الحل :

١٢٥ جم عبارة عن (٨ ÷ ١) الكيلو

$$\text{إذا نضرب } ١٦.٨ = ٨ \times ٢.١$$

٦/ عددين الفرق بينهما ١١ ومجموعهم ٧ فما أكبر هذين العددين ؟

(ب)	(أ)
(د)	(ج)





س + ص = ٧ (المعادلة الأولى)

س - ص = ١١ (المعادلة الثانية)

س٢ = ١٨ (بجمع المعادلتين)

س = ٩

بالتعويض في المعادلة ١

٧ = ص + ٩

ص = ٩ - ٧

ص = ٢

٧/ إذا كان قطر العجلة يساوي ٦٠ م كم المسافة التي تقطعها إذا دارت ١٥ دورة ؟

(أ) ٦٠٠ ط	(ب) ٨٠٠ ط
(ج) ٩٠٠ ط	(د) ١٠٠٠ ط

الحل : (ج) ٩٠٠ ط

قطر العجلة = ٦٠ م ----- إذا نصف القطر = ٣٠ م

محيط العجلة = ٢ ط نق ----- = ٢ × ٣٠ × ٢ ط = ٦٠ ط

المسافة = ١٥ × ٦٠ ط = ٩٠٠ ط

٨/ قارن بين :

(القيمة الأولى : ربع × ٨٠%) و (القيمة الثانية : ثمن × ٤٠%)

(أ) القيمة الأولى أكبر	(ب) القيمة الثانية أكبر
(ج) القيمتان متساويتان	(د) المعطيات غير كافية





الحل : (أ) القيمة الأولى أكبر

$$\frac{4}{1} \times 80\% = 20\%$$

$$\frac{8}{1} \times 40\% = 5\%$$

$$\frac{9}{9} = 0.1 \times 0.1 \times 0.1$$

٠.١١ (ب)	٠.٠٠١ (أ)
٠.١ (د)	٠.٠٠٠١ (ج)

الحل : (ج) ٠.٠٠٠١

$$0.0001 = (100 \div 11) \times (100 \div 1) + (10 \div 1)$$

س١٠ / كم عدد العقود في الفترة من ١٩٦٠ إلى ٢٠٠٤ ؟

٣ (ب)	٣ (أ) ونصف
٤ (د)	٤ (ج) ونصف

الحل : ٤ ونصف

$$2004 - 1960 = 44 \text{ وبإضافة } 1 \text{ يكون } 45 \text{ سنت}$$

أي ٤ عقود ونصف

س١١ / أرباح شركة زادت خلال عام ٢٠٠٥ إلى ٢٠٠٦ من ١٤٪ إلى ١٦٪ وكانت أرباح عام ٢٠٠٦ هي

٤٢ مليون فإن الفرق بين الربحين هو؟

٥ مليون (ب)	٤ مليون (أ)
٧ مليون (د)	٦ مليون (ج)

الحل : (ب) ٥ مليون





$$٤٢-----\%١٦$$

$$\%٢-----س$$

$$س = (٤٢ \times ٢) \div ١٦ = ٥.٢٥ \text{ (بالتقريب تكون ٥ مليون)}$$

س١٢ / قارن بين :

(القيمة الأولى : $٢ \div ٣$) و (القيمة الثانية : $\%٦٠$)

(أ) القيمة الأولى أكبر	(ب) القيمة الثانية أكبر
(ج) القيمتان متساويتان	(د) المعطيات غير كافية

الحل : (أ) القيمة الأولى أكبر

$$\text{القيمة الأولى : } (٢ \div ٣) \times ١٠٠ = ٦٦.٦\%$$

القيمة الثانية : $\%٦٠$

س١٣ / عددان حاصل جمعها يساوي ١٠٥ وأحدهما ٦ أمثال الآخر فأوجد العدد الأكبر ؟

(أ) ٩٦	(ب) ٩٠
(ج) ٨٤	(د) ٨٠

الحل : (ب) ٩٠

$$س + ص = ١٠٥$$

$$س + ٦س = ١٠٥$$

$$٧س = ١٠٥$$

$$س = ١٥$$

$$ص = ٦ \times ١٥ = ٩٠$$





س١٤ / أوجد قيمة s إذا كانت $s^3 = 1$


(أ) صفر	(ب) ٣
(ج) ٢	(د) ١

الحل : (أ) صفر

أي عدد مرفوع لأس صفر = ١ ، $s = ٠$

س١٥ / إذا كان لدينا مستطيل وقسم إلى ثلاث مربعات والمربع الواحد قسم إلى ٢٥ جزء ،

أوجد نسبة الجزء المظلل إلى المستطيل ؟



(أ) ٧٥ : ١	(ب) ٢٥ : ١
(ج) ٢٥ : ٣	(د) ٧٥ : ٣

الحل : (أ) ٧٥ : ١

عدد المربعات الصغيرة = $٢٥ \times ٣ = ٧٥$

نسبة المربع المظلل إلى المستطيل = $٧٥ \div ١$

س١٦ / أي الزوايا التالية لا تصلح لأن تكون زاوية في شكل رباعي ؟

(أ) ٣٦١	(ب) ٩٠
(ج) ٦٠	(د) ١٣٠

الحل : (أ) ٣٦١

الإجابة ٣٦١ " لأنها أكبر من مجموع الزوايا المجتمعة حول نقطة تساوي ٣٦٠ فقط "





س١٧/ إذا كان س ، ص عددين صحيحين موجبين ، وكانت س + ص = ٧ ، فأی الآتي صحيح ؟

(أ) س = ٩	(ب) ٨ + ص = ٢
(ج) ١٠ - ص = ٢	(د) ٨ - س = ٢

الحل : (د) ٨ - س = ٢

٨ - س = ٢ ، س = ٦ (إذا تحقق فيها كل الشروط)

س١٨/ إذا كان ثمن الدفتر ضعف ثمن القلم ، فما ثمن الدفتر إذا كان سعر ٢٠ قلم و ٢٠ دفتر يساوي ٩٠ ريال ؟

(أ) ٣	(ب) ٤
(ج) ٦	(د) ٢

الحل : (أ) ٣

نفرض أن الدفتر " ص " و القلم " س "

$$٢٠س + ٢٠ص = ٩٠$$

$$ص = ٢س$$

$$٢٠س + ٤٠س = ٩٠$$

$$٦٠س = ٩٠$$

$$س = ١.٥$$

$$ص = ٣ ÷ ٢ = ١.٥$$

$$ص = ٢ × ١.٥ = ٣$$





س١٩ / قارن بين :

إذا كان سعر كيلو الطحين الأبيض = ٢ ريال وسعر كيلو الطحين الأسمر = ٣ ريال

(القيمة الأولى : ٩ كيلو أبيض + ٣ كيلو أسمر) و (القيمة الثانية : ٨ كيلو أسمر)

(أ) القيمة الأولى أكبر	(ب) القيمة الثانية أكبر
(ج) القيمتان متساويتان	(د) المعطيات غير كافية

الحل : (أ) القيمة الأولى أكبر

$$\text{القيمة الأولى} = ٢ \times ٩ + ٣ \times ٣ = ١٨ + ٩ = ٢٧$$

$$\text{القيمة الثانية} = ٣ \times ٨ = ٢٤$$

س٢٠ / إذا اشترى محمد جهازه ب ٢٢٢٠ ريال وكانت الشركة تقدم عروض بحيث إذا اشترى جهازين حصل على خصم ٢٠% و ثلاثة أجهزة حصل على خصم ٣٠% فإذا اشترى ٣ أجهزة ثم جهازين فكم ثمن الجهاز الواحد ؟

(أ) ٨٠٠	(ب) ٦٠٠
(ج) ٧٠٠	(د) ٥٠٠

الحل : (ب) ٦٠٠

أول جهازين بسعر ٨٠% للواحد يعني الـ ١٦٠%

والـ ٣ أجهزة الأخرى ٧٠% للواحد يعني الـ ٢١٠%

الـ ٥ أجهزة بسعر ١٦٠% + ٢١٠% = ٣٧٠%

$$٣٧٠\% \div ١٠٠ = ٢٢٢٠ \text{ س}$$

$$\text{س} = ٣٧٠ \div (٢٢٢٠ \times ١٠٠) = ٦٠٠$$





س٢١/ إذا كان هناك مزرعه تحتوي على بقر ودجاج وكان عدد الدجاج ضعف البقر وقوائمه البقر ٥٢ فان عدد الدجاج يساوي ؟

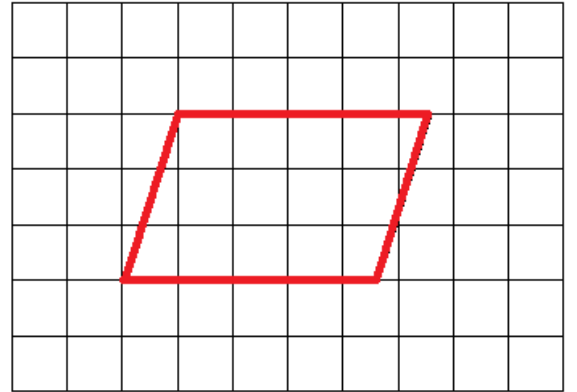
٧ (ب)	١٣ (أ)
١٠٤ (د)	٢٦ (ج)

الحل : (ج) ٢٦

عدد البقر = $٥٢ \div ٤ = ١٣$

عدد الدجاج ضعف عدد البقر ، أي $١٣ \times ٢ = ٢٦$

س٢٢/ قارن بين :



(القيمة الأولى : مساحة الشكل) و (القيمة الثانية : ٢٠ وحدة)

(ب) القيمة الثانية أكبر	(أ) القيمة الأولى أكبر
(د) المعطيات غير كافية	(ج) القيمتان متساويتان

الحل : (ب) القيمة الثانية أكبر

القيمة الأولى : الأطوال تقريبا $٤.٥ \times ٣ = ١٣.٥$ وحدة مربعة

القيمة الثانية : ٢٠ وحدة





س٢٣ / قارن بين :

إذا كان قيمة سوار أكثر من قيمة العقد ب ١١٠٠٠

وقيمة العقد أكبر من قيمة الخاتم ب ٧٠٠٠ ، وقيمة الخاتم = ٥٠٠٠

(القيمة الأولى : قيمة السوار) و (القيمة الثانية : ٤ أمثال قيمة العقد)

(أ) القيمة الأولى أكبر	(ب) القيمة الثانية أكبر
(ج) القيمتان متساويتان	(د) المعطيات غير كافية

الحل : (ب) القيمة الثانية أكبر

الخاتم = ٥٠٠٠ ، العقد = ٧٠٠٠ + ٥٠٠٠ = ١٢٠٠٠ ، السوار = ١١٠٠٠ + ١٢٠٠٠ = ٢٣٠٠٠

القيمة الأولى : ٢٣٠٠٠

القيمة الثانية : ٤ × ١٢٠٠٠ = ٤٨٠٠٠

س٢٤ / إذا كان ثمن مجموعة من الماشية = ٤٥١٠ وكان الديك (١٠ ÷ ١) من ثمن الخروف

و ثمن العجل يساوي ٣ أمثال ثمن الخروف أوجد ثمن الديك ؟

(أ) ١١٠	(ب) ١٠٠
(ج) ٩٠	(د) ١٢٠

الحل : (أ) ١١٠

الديك : الخروف : العجل : المجموع

(س) : (١٠ س) : (٣٠ س) : (٤١ س)

٤١ س = ٤٥١٠ ، س = ١١٠





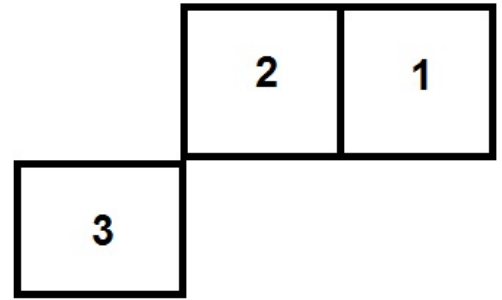
$$= ٠.١ \times ٠.٠٠١ \times ٠.٠٠١ / ٢٥$$

(ب) ٠.٠٠٠٠١	(أ) ٠.٠٠٠٠١
(د) ٠.٠٠٠٠٠٠١	(ج) ٠.٠٠٠٠٠٠١

الحل : (د) ٠.٠٠٠٠٠٠١

$$(١٠٠٠٠٠٠٠ \div ١) = (١٠ \div ١) \times (١٠٠٠ \div ١) \times (١٠٠٠٠ \div ١)$$

٢٦/ أي الآتي صحيح إذا كانت الثلاث مربعات متطابقة ؟



(ب) محيط ٢ + ٣ أقل من محيط ١ + ٢	(أ) محيط ٢ + ١ أكبر من محيط ٢ + ٣
(د) محيط ٢ + ٣ يساوي محيط ١ + ٢	(ج) محيط ٢ + ٣ أكبر من محيط ١ + ٢

الحل : (ج) محيط ٢ + ٣ أكبر من محيط ١ + ٢

نلاحظ من الاختيار (أ) أن محيط ١ + ٢ = ٦ أضلاع ومحيط ٢ + ٣ = ٧ أضلاع (نستبعد الاختيار)

نلاحظ من الاختيار (ب) أن محيط ٢ + ٣ = ٧ أضلاع ومحيط ١ + ٢ = ٦ أضلاع (نستبعد الاختيار)

نلاحظ من الاختيار (ج) أن محيط ٢ + ٣ = ٧ أضلاع ومحيط ١ + ٢ = ٦ أضلاع (وهو الصحيح)

نلاحظ من الاختيار (د) أن محيط ٢ + ٣ = ٧ أضلاع ومحيط ١ + ٢ = ٦ أضلاع (نستبعد الاختيار)

٢٧/ قارن بين :

إذا كانت س ≠ صفر ، ص = ١

(القيمة الأولى : (١ ÷ س) + (١ ÷ ص)) و (القيمة الثانية : (س + ص) ÷ (س ص))





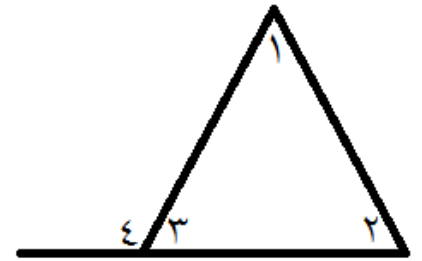
(ب) القيمة الثانية أكبر	(أ) القيمة الأولى أكبر
(د) المعطيات غير كافية	(ج) القيمتان متساويتان

الحل : (ج) القيمتان متساويتان

القيمة الأولى : $(1 \div س) + 1$

القيمة الثانية : $(س + 1) \div س = 1 + (س \div س)$

س٢٨ / قارن بين :



(القيمة الأولى : $2 + 1$) و (القيمة الثانية : $3 + 4$)

(ب) القيمة الثانية أكبر	(أ) القيمة الأولى أكبر
(د) المعطيات غير كافية	(ج) القيمتان متساويتان

الحل : (ب) القيمة الثانية أكبر

$$4 = 2 + 1$$

س٢٩ / أكمل المتتابعة : ٩٦٠ ، ١٠٣٥ ، ١١١٠ ، ١١٨٥ ،

(ب) ١٢٥٥	(أ) ١٢٥٠
(د) ١٢٦٥	(ج) ١٢٦٠

الحل : (ج) ١٢٦٠

الحد الثابت : ٧٥+

$$١٠٣٥ = ٧٥ + ٩٦٠$$





$$1110 = 75 + 1035$$

$$1185 = 75 + 1110$$

$$1260 = 75 + 1185$$

س٣٠/ أوجد قيمة س التقريبية إذا كانت ($50 - س^2$) $10 \div 100 =$

٢١ (ب)	٢٠ (أ)
٢٣ (د)	٢٢ (ج)

(ب ضرب الطرفين $\times 10$ للتخلص من المقام) $100 = 10 \div (50 - س^2)$

$$1000 = 50 - س^2$$

$$1050 = س^2$$

$$525 = س$$

س تساوي تقريباً = ٢٣

س٣١/ إذا كانت ($9 \div 4$) من عدد مضروبه في ($10 \div 3$) تساوي ٢٠٠ ، فما هو ذلك العدد ؟

١٥٠٠ (ب)	٣٠٠٠ (أ)
١٦٠٠ (د)	١٨٠٠ (ج)

الحل : (ب) ١٥٠٠

$$200 = (9 \div 4) \times س (10 \div 3)$$

(س $\div 15 = 200$) (بالضرب $\times 15$ للتخلص من المقام)

$$3000 = س ، 1500 = س$$





س٣٢/ مقلوب ربع العدد ٢ يساوي ؟

٢ (ب)	١ (أ)
(د) (٢ ÷ ١)	(ج) صفر

الحل : (ب) ٢

ربع العدد ٢ = (٢ ÷ ١) ، ومقلوب النصف هو ٢

$$س٣٣/ (٣س^٢ ÷ ١٠) - ٥٠ = ١٠٠$$

٢ (ب) جذره (٥)	(أ) جذره
(د) ١٠ (جذره ٥)	(ج) ٥ (جذره ٥)

الحل : (د) ١٠ (جذره ٥)

(٣س^٢ ÷ ١٠) = ١٥٠ [بالضرب × ١٠ للتخلص من المقام]

$$٣س^٢ = ١٥٠٠ ، س^٢ = ٥٠٠ ، س = ١٠ (جذره ٥)$$

س٣٤/ قارن بين :

إذا كانت قيمة سوار أكثر من قيمة العقد ب ٥٠٠٠ وقيمة العقد أكبر من قيمة الخاتم

$$ب ٧٠٠٠ ، وقيمة الخاتم = ٥٠٠٠$$

(القيمة الأولى : مثلي قيمة السوار) و (القيمة الثانية : ٤ أمثال قيمة العقد)

(ب) القيمة الثانية أكبر	(أ) القيمة الأولى أكبر
(د) المعطيات غير كافية	(ج) القيمتان متساويتان

الحل : (ب) القيمة الثانية أكبر

$$قيمة الخاتم = ٥٠٠٠ ، العقد = ٧٠٠٠ + ٥٠٠٠ = ١٢٠٠٠ ، السوار = ٥٠٠٠ + ١٢٠٠٠ = ١٧٠٠٠$$

$$القيمة الأولى = ٢ × ١٧٠٠٠ = ٣٤٠٠٠$$





القيمة الثانية = $4 \times 12000 = 48000$

س٣٥/ أي مما يلي صحيح إذا كانت $7 < 18$ ؟

(أ) $25 < 25$	(ب) $25 > 25$
(ج) $11 < 11$	(د) $11 > 11$

الحل : (أ) $25 < 25$

س٣٥ - $7 < 18$

س $25 < 25$

س٣٦/ كم المسافة المقطوعة بالسم لـ ١٥ دورة كاملة إذا كان قطر العجله ٦ سم ؟

(أ) ٦٠ ط	(ب) ٥٤ ط
(ج) ٤٥ ط	(د) ٩٠ ط

الحل : (د) ٩٠ ط

القطر = ٦ سم ، نق = ٣ سم

المحيط = ٢ ط نق = ٢ ط $3 \times 2 = 6$ ط

المسافة = المحيط \times عدد الدورات = ٦ ط $\times 15 = 90$ ط

س٣٧/ إذا كانت أول عشر دقائق من المكالمه تحسب بـ ٠.٤ ريال للدقيقه ثم أي دقيقه

إضافيه تحسب بـ ٠.٢ ريال ، فكم تكلفه مكالمه تستمر لساعه كامله ؟

(أ) ١١ ريال	(ب) ١٢ ريال
(ج) ١٣ ريال	(د) ١٤ ريال

الحل : (د) ١٤ ريال

الساعه ٦٠ دقيقه





أول ١٠ دقائق قيمتها ٤ ريالات

٥٠ دقيقة الباقية بقيمتها = $50 \times (10 \div 2) = 10$ ريالات

إذا التكلفة كاملة = ١٤ ريال

س٣٨ / أكمل المتتابعة : ٢ ، ٥ ، ١٦ ، ٣٣ ،

٥٤ (ب)	٤٥ (أ)
١٠٠ (د)	٨٢ (ج)

الحل : (د) ١٠٠

$$5 = 1 + 4 = 2 \times 2$$

$$16 = 1 + 15 = 3 \times 5$$

$$33 = 1 + 32 = 2 \times 16$$

$$100 = 1 + 99 = 3 \times 33$$

س٣٩ / فتره الثمانينات تكون بين ؟

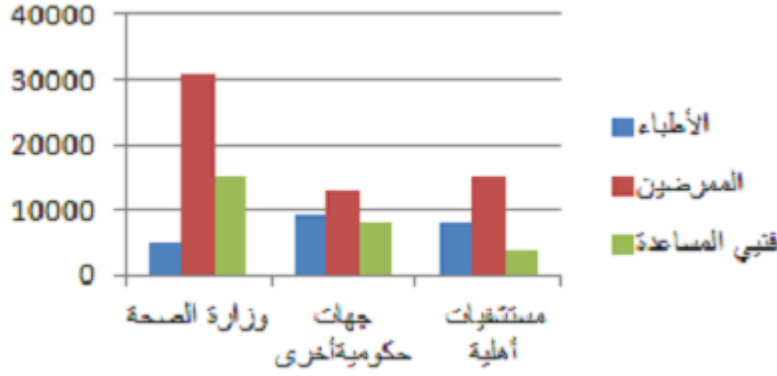
١٩٨٩-١٩٨٠ (ب)	١٩٨٩-١٩٨٤ (أ)
١٩٩٠-١٩٨١ (د)	١٩٩٠-١٩٨٠ (ج)

الحل : (ب) ١٩٨٩ - ١٩٨٠





* الرسم البياني التالي يوضح أعداد العاملين في المستشفيات بالمملكة العربية السعودية (أجب عن الأسئلة التالية) :



س٤٠ / (في وزارة الصحة والجهات الحكومية الأخرى) فنيي المساعدة :

(أ) أقل من مجموع الأطباء	(ب) مساويين لعدد الأطباء
(ج) أكبر من مجموع الأطباء	(د) أكبر من عدد المرضى

الحل : (ج) أكبر من مجموع الأطباء

س٤١ / فنيي المساعدة في كل قطاع :

(أ) أكثر من عدد الأطباء في كل قطاع	(ب) أقل من عدد الأطباء في كل قطاع
(ج) أقل من عدد المرضى في كل قطاع	(د) مساويين لعدد الأطباء في كل قطاع

الحل : (ج) أقل من عدد المرضى في كل قطاع

س٤٢ / الفرق بين عدد المرضى في وزارة الصحة والجهات الحكومية الأخرى يبلغ تقريباً :

(أ) ١٨٠٠٠	(ب) ٢٣٠٠٠
(ج) ٢١٠٠٠	(د) ٢٠٠٠٠

الحل : (أ) ١٨٠٠٠





يوم الأربعاء ١٦ / ٣ / ١٤٣٤ هـ

١/ إذا كانت الزاوية التي يصنعها عقرب الدقائق مع عقرب الساعات تساوي 120° فكم دقيقة مرت ؟

(ب)	(أ)
(د)	(ج)

الدقيقة = ٦ درجات

$$٦ = ١$$

$$١٢٠ = س$$

$$٢٠ = س، ١٢٠ = ٦س$$

٢/ قارن بين :

(القيمة الأولى : عدد الزوايا المنفرجة في أي مثلث) و (القيمة الثانية : ٢)

(ب) القيمة الثانية أكبر	(أ) القيمة الأولى أكبر
(د) المعطيات غير كافية	(ج) القيمتان متساويتان

الحل : (ب) القيمة الثانية أكبر

الزاوية المنفرجة هي التي قياسها $< 90^\circ$ درجة

ولا يمكن أن يكون أكثر من زاوية واحدة منفرجة في المثلث

لأن لو فرضنا أن الزاوية تكون 91° درجة إذاً الزاويتين مجموعهم 182° وهو أكبر من مجموع زوايا المثلث





س٣/ قارن بين :

(القيمة الأولى : ٦٠×٤٠) و (القيمة الثانية : ٤٠×٦٠)

(أ) القيمة الأولى أكبر	(ب) القيمة الثانية أكبر
(ج) القيمتان متساويتان	(د) المعطيات غير كافية

الحل : (ج) القيمتان متساويتان

$$٢٤ = ١٠٠ \div (٤٠ \times ٦٠)$$

$$٢٤ = ١٠٠ \div (٦٠ \times ٤٠)$$

س٤/ قارن بين :

(القيمة الأولى : $٧ \times ٧ \times ٧ \times ٧ \times ٧$ س) و (القيمة الثانية : $٥ \times ٥ \times ٥ \times ٥ \times ٥$)

(أ) القيمة الأولى أكبر	(ب) القيمة الثانية أكبر
(ج) القيمتان متساويتان	(د) المعطيات غير كافية

الحل : (د) المعطيات غير كافية

لعدم معرفتنا بقيمة س (لأنها ممكن أن تساوي عدد موجب أو صفر أو عدد سالب)

س٥/ إذا كان $س + ص = ع$ ، $س = ص$ ، فأي مما يلي غير صحيح ؟

(أ) $س - ع = ع - ص$	(ب) $س = ع \div ٢$
(ج) $س = ع - ص$	(د) $س = ع - ص$

الحل : (د) $س = ع - ص = ٢س$

من المعادلتين الأولى $س + ص = ع$

$س - ع = ص$ وهي لا تساوي الاختيار (د) إذاً فالاختيار غير صحيح





س٦/ قارن بين :

(القيمة الأولى : أصغر قيمة للمقدار (س + ١)) و (القيمة الثانية : ١)

(أ) القيمة الأولى أكبر	(ب) القيمة الثانية أكبر
(ج) القيمتان متساويتان	(د) المعطيات غير كافية

الحل : (ب) القيمة الثانية أكبر

القيمة الأولى : أصغر قيمة للمقدار عند س = ١- إذا المقدار يساوي ٠

القيمة الثانية : ١

س٧/ ما العدد الذي إذا طرحنا ٧ من ثلاث أمثاله كان الناتج ٣٢ ؟

(أ) ١٢	(ب) ١٣
(ج) ١٤	(د) ١٥

الحل : (ب) ١٣

نفرض العدد س

$$٣س - ٧ = ٣٢$$

$$٣س = ٧ + ٣٢ = ٣٩$$

$$س = ١٣$$

س٨/ قارن بين :

إذا كان حجم الإناء الأول أكبر من حجم الإناء الثاني

(القيمة الأولى : المساحة الجانبية للإناء الأول)

(القيمة الثانية : المساحة الجانبية للإناء الثاني)





(ب) القيمة الثانية أكبر	(أ) القيمة الأولى أكبر
(د) المعطيات غير كافية	(ج) القيمتان متساويتان

الحل : (د) المعطيات غير كافية

لعدم وجود علاقة بين المساحة والحجم المساحة $س^2$ والحجم $س^3$ (تختلف الوحدات)

س٩/ قارن بين :

إذا كان المثلث زواياه $٣هـ$ ، $١٠+هـ$ ، $٢٠-هـ$

(القيمة الأولى : ٣٥) و (القيمة الثانية : أصغر زوايا المثلث)

(ب) القيمة الثانية أكبر	(أ) القيمة الأولى أكبر
(د) المعطيات غير كافية	(ج) القيمتان متساويتان

الحل : (أ) القيمة الأولى أكبر

$$٣هـ + ١٠ + هـ - ٢٠ = ١٨٠$$

$$١٨٠ = ١٠ - هـ$$

$$١٩٠ = هـ ، ٣٨ = هـ$$

$$١٨ = (٢٠ - ٣٨) = (٢٠ - هـ)$$

س١٠/ قارن بين :

إذا كان س = حجم مكعب طول حرفه يساوي ٤ ، ص = حجم مكعب طول حرفه يساوي ٢

(القيمة الأولى : س) و (القيمة الثانية : ص٨)

(ب) القيمة الثانية أكبر	(أ) القيمة الأولى أكبر
(د) المعطيات غير كافية	(ج) القيمتان متساويتان

الحل : (ج) القيمتان متساويتان





س = حجم مكعب طول حرفه ٤

$$س = ٤^٣ ، س = ٦٤$$

ص = حجم مكعب طول حرفه ٢

$$ص = ٢^٣ ، ص = ٨$$

$$س = ٦٤ ، ص = ٨$$

س١١ / مستطيل محيطه ٤٨ نقص طوله ٢ وزاد عرضه ٢ فأصبح مربع ، أوجد مساحته ؟

٨١ (ب)	١٤٤ (أ)
١٢١ (د)	١٦٩ (ج)

الحل : (أ) ١٤٤

محيط المستطيل = ٢ (الطول + العرض) = ٤٨

$$الطول + العرض = ٢٤$$

وبما أنه أصبح مربع إذا الطول = العرض

$$٢ الطول = ٢٤ ، الطول = ١٢ إذا العرض = ١٢$$

$$مساحة المربع = ١٢ × ١٢ = ١٤٤$$

س١٢ / اشترى أحمد كتب بمبلغ ٦٤٠ ومشتريات أخرى بمبلغ ٥٣٠ وقد خفض البائع له ١٠% فما

هو الثمن الأصلي للسلع التي اشتراها أحمد ؟

١٣٠٠ ريال (ب)	١٤٠٠ ريال (أ)
١١٠٠ ريال (د)	١٢٠٠ ريال (ج)

الحل : (ب) ١٣٠٠ ريال

$$مجموع مشتريات أحمد = ٦٤٠ + ٥٣٠ = ١١٧٠ ريال$$





١١٧٠ ريال = ٩٠% (بقسمة الطرفين على ٩)

١٣٠ ريال = ١٠% (بضرب الطرفين في ١٠)

١٣٠٠ ريال = ١٠٠%

س١٣/ إذا كان عُمر محمد ثلاث أضعاف عُمر ابنه ، وبعد ١٠ سنوات يكون عُمر ابنه ٢٠ سنة ،
فكم عُمر محمد الآن ؟

٣٠ (ب)	٢٠ (أ)
٥٠ (د)	٤٠ (ج)

الحل : (ب) ٣٠

الابن س إذا الأب ٣س

عمر الابن في الوقت الحالي ٢٠-١٠=١٠ سنوات

والأب ٣س إذا الأب ٣٠ سنت

س١٤/ إذا كان ٢٠% من عدد تساوي ١٠% من ٣٦٠ ، فما هو ذلك العدد ؟

١٨٠ (ب)	٩٠ (أ)
٣٦٠ (د)	٢٧٠ (ج)

الحل : (ب) ١٨٠

١٠% من ٣٦٠ تساوي ٣٦

٢٠% س = ٣٦ (بالضرب × ٥)

١٠٠% س = ١٨٠





س١٥/ إذا كان $أ = ١$ ، فأوجد $(أ - ١) : أ$ ؟

(ب) ١ : ٢	(أ) ٢ : ١
(د) ١ : ١	(ج) ٣ : ١

الحل : (د) ١ : ١

$$١٢ = أ، ١ = أ - ١$$

$$١ - (١ - ١) : (١ - ١)$$

$$١ : ١ = (١ - ١) : (١ - ١)$$

س١٦/ أكمل المتتابعة : ٣، ١٢، ٢١، ٣٠،

(ب) ٣٧	(أ) ٣٥
(د) ٤١	(ج) ٣٩

الحل : (ج) ٣٩

الحد الثابت : ٩+

$$١٢ = ٩ + ٣$$

$$٢١ = ٩ + ١٢$$

$$٣٠ = ٩ + ٢١$$

$$٣٩ = ٩ + ٣٠$$

س١٧/ إذا كان $أ = ١$ ، فأوجد $(أ - ١) : أ$ ؟

(ب) $(٣ \div ١)$	(أ) $(٢ \div ١)$
(د) $(٦ \div ١)$	(ج) $(٤ \div ١)$

الحل : (ج) $(٤ \div ١)$





$$أ = ٢، ١ = (٢ \div ١)$$

$$(٤ \div ١) = ٢(٢ \div ١) = ٢[(٢ \div ١) - ١]$$

س١٨ / قارن بين :

إذا كان $س^٢ + س + ١ = صفر$

(القيمة الأولى : س) و (القيمة الثانية : ١)

(أ) القيمة الأولى أكبر	(ب) القيمة الثانية أكبر
(ج) القيمتان متساويتان	(د) المعطيات غير كافية

الحل : (ب) القيمة الثانية أكبر

نفرض أن $س = ١$

$$١ + ١ + ١ = ٣، ٣ < صفر$$

إذا قيمة $س$ أقل من ١

س١٩ / إذا كان $أ = ٢$ ، فأوجد $(١ - أ)^{١}$

(أ) $(٢ \div ١)$	(ب) $(٣ \div ١)$
(ج) $(٤ \div ١)$	(د) $(٦ \div ١)$

الحل : (ج) $(٤ \div ١)$

$$أ = ٢، ١ = (٢ \div ١)$$

$$[(٢ \div ١) - ١] [(٢ \div ١) \div ١]$$

$$(٤ \div ١) = ٢(٢ \div ١)$$





س٢٠/ أوجد قيمة س في المقدار: $[(س + ٢) \div ١] = [(١ + س٢) \div ١]$

١ (ب)	(أ) صفر
٢ (د)	١- (ج)

الحل : (ب) ١

$$[(س + ٢) \div ١] = [(١ + س٢) \div ١] \text{ ((بضرب طرفين في وسطين))}$$

$$١ + س٢ = س + ٢$$

$$١ - ٢ = س٢ - س$$

$$س = ١$$

س٢١/ قارن بين :

إذا مثلث قائمه وتره ١٠ وأحد أضلاعه ٨

(القيمة الأولى : مساحة المثلث) و (القيمة الثانية : ٤٨)

(ب) القيمة الثانية أكبر	(أ) القيمة الأولى أكبر
(د) المعطيات غير كافية	(ج) القيمتان متساويتان

الحل : (ب) القيمة الثانية أكبر

$$\text{الوتر}^٢ = \text{الضلع الأول}^٢ + \text{الضلع الثاني}^٢$$

$$١٠٠ = ٦٤ + س^٢, س^٢ = ١٠٠ - ٦٤ = ٣٦$$

$$س = ٦$$

مساحة المثلث : (القاعدة \times الارتفاع) $\div ٢$

$$٢٤ = ٢ \div (٨ \times ٦)$$





س٢٢/ إذا كانت الساعة الآن ١:٤٥ فما الزاوية بين عقرب الدقائق وعقرب الساعات ؟

(ب)	(أ)
(د)	(ج)

الحل :

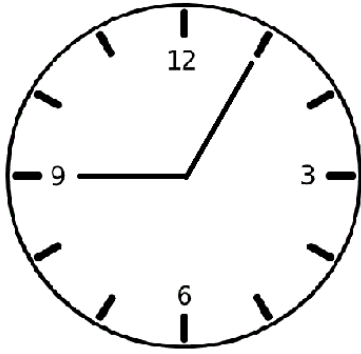
$$(\text{الساعة} \times ٣٠) - (\text{الدقائق} \times (١١ \div ٢))$$

$$٣٠ \times ١ - (١١ \div ٢) \times ٤٥$$

$$٣٠ - ٢٤٧.٥ = ٢١٧.٥$$

إذا الزاوية الكبرى = ٢١٧.٥ والزاوية الصغرى = ١٤٢.٥

س٢٣/ الزاوية بين عقرب الدقائق وعقرب الساعات تساوي ؟



(ب) ١٣٠	(أ) ١٢٠
(د) ١١٠	(ج) ١٠٠

الحل : (أ) ١٢٠

الفرق بين العقربين = ٢٠ دقيقة

١ دقيقة = ٦ درجات

٢٠ دقيقة = ١٢٠ درجة





س٢٤ / قارن بين :

إذا كان $٧^ك = ٤٩$ ، $٦ × ع = ٤٨$

(القيمة الأولى : ك) و (القيمة الثانية : ع)

(ب) القيمة الثانية أكبر	(أ) القيمة الأولى أكبر
(د) المعطيات غير كافية	(ج) القيمتان متساويتان

الحل : (ب) القيمة الثانية أكبر

$٧^ك = ٤٩$ ، $٧^٢ = ٤٩$ ، $ك = ٢$

$٦ × ع = ٤٨$ ، $٦ ÷ ٤٨ = ع$ ، $٨ = ع$

س٢٥ / أكمل المتتابعة : ٣ ، ٥ ، ٩ ، ١٧ ، ٣٣ ،

(ب) ٦٤	(أ) ٦٣
(د) ٦٦	(ج) ٦٥

الحل : (ج) ٦٥

$٥ = ٢ + ٣$

$٩ = ٤ + ٥$

$١٧ = ٨ + ٩$

$٣٣ = ١٦ + ١٧$

$٦٥ = ٣٢ + ٣٣$

س٢٦ / إذا كان س عدد موجب زوجي و ص عدد موجب فردي فأی الآتي يجب أن يكون فردياً ؟

(ب) س ص	(أ) س + ٢ ص
(د) س ÷ ص	(ج) س + ص





الحل : (ج) س + ص

نفرض س = ٢ ، ص = ٣

بتجربة الخيارات نجد أن (ج) $٥ = ٣ + ٢$ (وهو عدد فردي)

$$\frac{٣}{٢٧} = \frac{٣(١+٣)}{٢٧} ، \text{ فإن س} = ٤$$

٢ (ب)	١ (أ)
٤ (د)	٣ (ج)

الحل : (ب) ٢

بتحليل ٢٤٣ تساوي ٣^٥

$٣(١+٣) = ٣^٥$ [إذا تساوت الأساسات تتساوى الأسس]

$$٣س + ١ = ٥ ، ٢س = ٤ ، س = ٢$$

٢٨ / إذا كان (س - ص) = ١ و ص < ٢ فإن :

٣ (ب) س >	١ (أ) س >
١ (د) س <	٣ (ج) س <

الحل : (ج) س < ٣

نفرض أن ص = ٣ فإن الس = ٤

إذا يجب أن تكون قيمة الس < ٣

٢٩ / إذا كان ٣س + ص = ٥ فإن ٢س + ص =

١٠ (ب)	٨ (أ)
١٤ (د)	١٢ (ج)

الحل : (ب) ١٠





٣س + ص = ٥ (بضرب المعادلتين كاملتين $\times 2$)

٦س + ٢ص = ١٠

س٣٠ / إذا كان هناك ٤٨ كيساً من الأرز و٧٢ كيساً من السكر فما هو أكبر عدد من الأسر
يمكن توزيع الأكياس عليه بحيث يكون لكل أسرة كيس واحد من الأرز وكيسان من
السكر؟

٣٦ (ب)	١٢ (أ)
٧٢ (د)	٤٨ (ج)

الحل : (ب) ٣٦

٤٨ كيس أرز = ٤٨ أسرة

٧٢ كيس سكر = ٣٦ أسرة

إذا عدد الأسر التي ستأخذ من الأرز والسكر = ٣٦ أسرة والباقي سيأخذون أرز فقط

س٣١ / يستخدم دلو سعته ٤٠٠٠ سم^٣ ، لملء حوض ماء سعته ٤ م^٣ ، كم دلواً يتطلب لملء هذا
الحوض ؟

١٠٠٠ (ب)	٥٠٠ (أ)
٢٥٠٠ (د)	٢٠٠٠ (ج)

الحل : (ب) ١٠٠٠

م = ١٠٠ سم ، م^٣ = ١٠٠٠٠٠٠ سم^٣

(١٠٠٠٠٠٠ \times ٤) \div ٤٠٠٠ = ٤٠٠٠ \div ٤٠٠٠٠٠٠ = ١٠٠٠

س٣٢ / إذا اشترى خالد شنطه بـ ٧٤ ريال وساعه تقل عنها بـ ٥٠ ريال . فكم دفع للشنطتين
والساعة معاً ؟





٩٧ (ب)	٩٦ (أ)
٩٩ (د)	٩٨ (ج)

الحل : (ج) ٩٨

$$\text{سعر الساعة} = ٧٤ - ٥٠ = ٢٤ \text{ ريال}$$

$$\text{مجموع سعرهما} = ٧٤ + ٢٤ = ٩٨ \text{ ريال}$$

٣٣/ إذا كان ما مع محمد ضعف ما مع خالد . وكان مجموع ما معهما ١١١ ريال . فكم المبلغ الذي مع خالد ؟

٣٧ (ب)	٣٠ (أ)
٧٠ (د)	٧٤ (ج)

الحل : (ب) ٣٧

نفرض أن محمد ٢س ، خالد س

$$٢س + س = ١١١ ، ٣س = ١١١ ، س = ٣٧$$

٣٤/ قسمت عدد أولي على عدد آخر أولي يساوي ؟

١ (ب)	صفر (أ)
(د) عدد كسري	(ج) عدد صحيح

الحل : (د) عدد كسري

$$\text{مثال : } ١١ \div ١٣ = (١١ \text{ على } ١٣)$$

٣٥/ قاس محمد طوله بالسنتيمترات فوجد أن طوله = ٣ أمثال طول أخيه الصغير دون كسور ، فإن طول محمد هو ؟

١٩٦ سم (ب)	١٦٩ سم (أ)
١٨١ سم (د)	١٦٥ سم (ج)

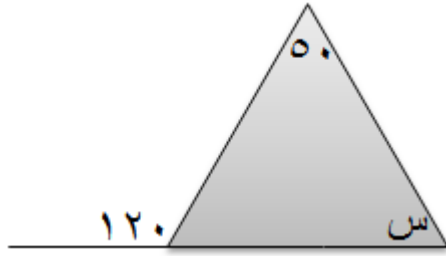




الحل : (أ) ١٦٥ سم

لأنه هو العدد الوحيد في الاختيارات الذي يقبل القسمة على ٣ بدون باقى

س٣٦ / أوجد قيمة س ؟



٨٠ (ب)	٥٠ (أ)
١٢٠ (د)	٧٠ (ج)

الحل : (ج) ٧٠

الزاوية الخارجة عن المثلث = مجموع الزاويتين الداخلتين غير المجاورة لها

$$١٢٠ = ٥٠ + س ، س = ١٢٠ - ٥٠ = ٧٠$$





هذا التجميع خاص بصفحة المميز والمتميز " في القدرات "
بالتعاون مع الصفحة الرسمية للحملة الثانية لإلغاء التحصيلي
دعواتكم بـ ١٠٠٪ لكل من قام بهذا العمل

شارك في حل الملف :

محمد سامح

آلاء الطويل

ندى عبد الفتاح

هدى الحوشي

شارك في مراجعة الملف :

أمير هشام

محمد الغول

مصطفى عبد الله

أحمد حمدي

عمر القصص

تصميم الملف :

عمر عليان

