

المادة : فقه
الصف: الثالث



ورقة قياس



اسم الطالب :
.....

الموضوع : آداب قضاء الحاجة (1)



المهارة: ذكر آداب قضاء الحاجة

أكمل ما يأتي :



أقول عند الخروج
من الخلاء

أقول عند دخول
الخلاء

باسم اللهم إني
بك من والخبائث

ضع علامة (✓) أمام العبارة الصحيحة:

- () 1 أقدام رجلي اليمنى عند دخول الخلاء
- () 2 عند قضاء الحاجة أستتر عن الناس
- () 3 لا أدخل معي مصحفا أو شيئا فيه ذكر الله تعالى



اكتب أربعة من آداب قضاء الحاجة التي تعلمتها:

1-.....

2-.....

3-.....


4-.....

توقيع ولي الأمر :
.....



توقيع المعلم:
.....

المادة : الفقه
الصف: الثالث



ورقة قياس



اسم الطالب:
.....

الموضوع آداب قضاء الحاجة (2)



المهارة: ذكر تعريف الاستنجاء -
الاستجمار- ما يجوز الاستجمار به

أكمل تعريف الاستنجاء والاستجمار



الاستنجاء هو :مخرج البول
و.....ب.....حتى تزول

الاستجمار هو :مخرج البول
و.....ب.....أوحتى تزول
.....

ضع علامة (✓) أمام العبارة الصحيحة:



() 1 يجوز الاستجمار بالعظام وفضلات الحيوانات
() 2 يحرم الاستجمار بورق ذكر فيه اسم الله
() 3 يجوز الاستجمار بالأحجار والمناديل والورق

يجوز الإقتصار على الاستجمار بشرطين هما:

1-.....
2.....

توقيع ولي الأمر:
.....



توقيع المعلم:
.....

المادة : الفقه
الصف: الثالث



ورقة قياس



اسم الطالب:

الموضوع: إزالة النجاسة



المهارة: ذكر الأشياء النجسة - ذكر الأشياء التي يجب إزالة النجاسة عنها

أضع دائرة حول الأشياء النجسة فيما يأتي :



ضع علامة (✓) أمام الأشياء التي يجب إزالة النجاسة عنها :



- 1) يجب إزالة النجاسة عن البدن عند الصلاة ()
- 2) يجب إزالة النجاسة عن الثياب عند الصلاة ()
- 3) يجب إزالة النجاسة عن الأماكن المجاورة للصلاة ()
- 4) يجب إزالة النجاسة عن المكان الذي أصلي فيه ()



أصل الدليل في العمود (ب) بما يناسبه في العمود (أ)


(ب) الدليل	(أ) ما تجب إزالة النجاسة عنه
قال م (إن هذه المساجد لا تصلح لشيء من هذا البول والقذر)	البدن
قال تعالى (وثيابك فطهر)	مواضع الصلاة
قال تعالى (والله يحب المطهرين)	الثياب

توقيع ولي الأمر :



توقيع المعلم:

المادة : فقه
الصف: الثالث



ورقة قياس



اسم الطالب:

الموضوع : التيمم



التيمم - ذكر صفة التيمم تعريف
الحالات التي يشرع فيها التيمم

أرتب صور صفة التيمم التالية بوضع الرقم تحت الدائرة تحت كل صورة :



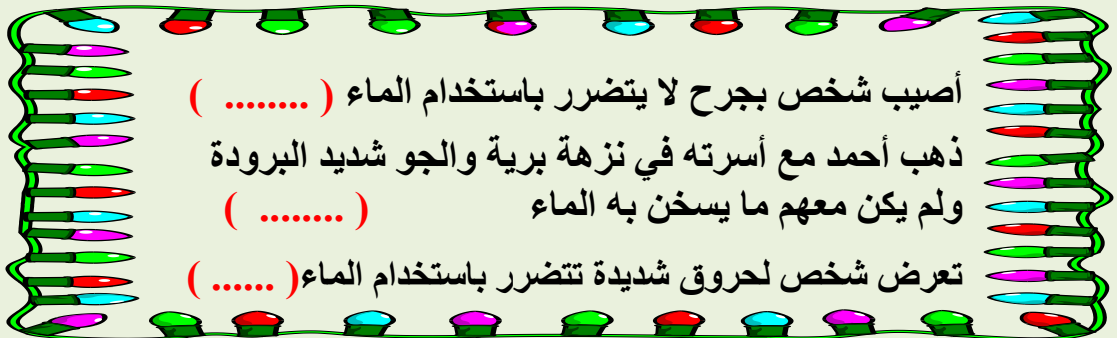
أرسم دائرة حول رقم الإجابة الصحيحة :



التيمم هو :

- 1) مسح الوجه والكفين بالتراب الطهور بدلا من الماء
- 2) غسل الوجه والكفين بالماء الطهور
- 3) غسل جميع الجسم بالماء الطهور

اكتب أمام كل حالة الكلمة المناسبة لها من بين القوسين فيما يلي (يتيمم - يتوضأ)



- أصيب شخص بجرح لا يتضرر باستخدام الماء (.....)
- ذهب أحمد مع أسرته في نزهة برية والجو شديد البرودة ولم يكن معهم ما يسخن به الماء (.....)
- تعرض شخص لحروق شديدة تتضرر باستخدام الماء (.....)

توقيع ولي الأمر :



توقيع المعلم:

المادة : فقه
الصف: الثالث



ورقة قياس



اسم الطالب:

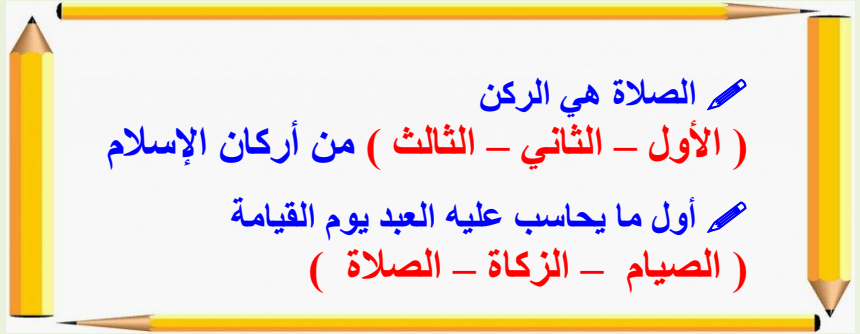
.....

الموضوع: مكانة الصلاة



المهارة: ذكر مكانة الصلاة - ذكر
حكم تارك الصلاة

أضع خطًا تحت الاختيار الصحيح:

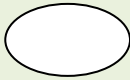


الصلاة هي الركن
(الأول - الثاني - الثالث) من أركان الإسلام
أول ما يحاسب عليه العبد يوم القيامة
(الصيام - الزكاة - الصلاة)

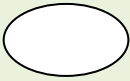
أكمل الحديث التالي للدلالة على مكانة الصلاة:

عن جابر رضي الله عنه قال: قال رسول الله
صلى الله عليه وسلم (بين وبين
والكفر ترك)

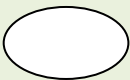
ضع علامة (✓) أمام العبارة الصحيحة:



يؤدي المسلم خمس صلوات في اليوم والليلة



يؤمر الصبي بالصلاة لخمس سنوات ويضرب عليها العشر سنوات



لا يجب أداء الصلاة جماعة في المسجد

توقيع ولي الأمر:

.....



توقيع المعلم:

.....

المادة : فقه
الصف: الثالث



ورقة قياس



اسم الطالب:
.....

الموضوع: شروط الصلاة (1)



المهارة: ذكر شروط وجوب الصلاة

أضع دائرة حول رقم الإجابة الخاطئة :



شروط وجوب الصلاة :

الإسلام التمييز العقل البلوغ الوضوء

أختار الإجابة الصحيحة :

سن التمييز هو :

(5 سنوات - 7 سنوات - 9 سنوات)

لا تجب الصلاة على :

(المريض - الشيخ العجوز - المجنون)

ما هي شروط وجوب الصلاة ؟

1- فلا تجب على الكافر

2- التمييز فلا تجب الصلاة على

3- فلا تجب الصلاة على المجنون

4- الوضوء فلا تصح الصلاة

توقيع ولي الأمر :



توقيع المعلم:

المادة : فقه
الصف: الثالث



ورقة قياس



اسم الطالب:

.....

الموضوع : شروط الصلاة (2)



المهارة : ذكر شروط الصلاة -تحديد
عورة الرجل والمرأة في الصلاة

ضع علامة (✓) أمام العبارة الصحيحة:



أكمل الفراغات التالية من خلال دراسة الدرس:



أصل الوقت في العمود (أ) بما يناسبه في العمود (ب)

(ب)	(أ)
من خروج وقت الظهر إلى اصفرار الشمس	الفجر
من خروج وقت الظهر إلى اصفرار الشمس	الظهر
من غروب الشمس إلى أن يغيب الشفق الأحمر	العصر
من زوال الشمس إلى أن يصير ظل كل شيء مثله	المغرب
من طلوع الفجر الثاني إلى طلوع الشمس	العشاء

توقيع ولي الأمر :


.....



توقيع المعلم:

.....

المادة : فقه
الصف: الثالث



ورقة قياس



اسم الطالب:

.....

الموضوع : آداب دخول المسجد



المهارة: ذكر آداب دخول المسجد

ضع علامة () أمام السلوك الصحيح وعلامة (x) أمام العبارة الخاطئة:



()

أقدم رجلي اليمنى عند دخول المسجد

()

أقدم رجلي اليسرى عند الخروج من المسجد

()

أضع المصحف في أي مكان في المسجد

()

أرفع صوتي عند قراءة القرآن في المسجد

()

عند دخول المسجد قبل الإقامة أجلس مطمئناً

()

أحب البلاد إلى الله تعالى مساجدها

أكمل الفراغات التالية من خلال دراسة الدرس:



ماذا أفعل إذا دخلت المسجد؟



توقيع ولي الأمر:


.....



توقيع المعلم:

.....

المادة : فقه
الصف: الثالث



ورقة قياس



اسم الطالب:
.....

الموضوع : صلاة الجماعة



المهارة: ذكر أفضلية صلاة الجماعة
حكم صلاة الجماعة

ضع علامة (✓) أمام الإجابة الصحيحة:



✓ صلاة الجماعة أفضل من صلاة الفرد بـ

22 درجة () 25 درجة () 27 درجة ()

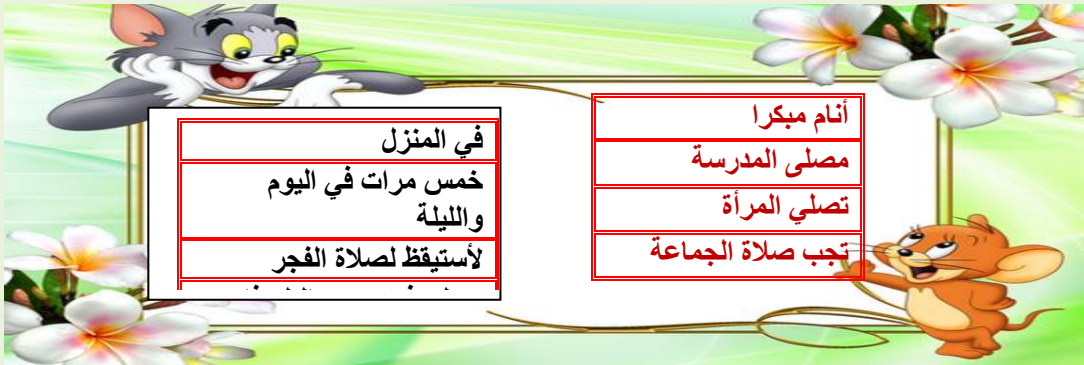
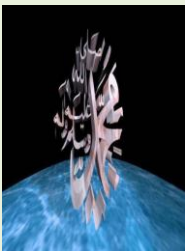
✓ صلاة الجماعة واجبة على :

الرجال والنساء () النساء () الرجال ()

أكمل الفراغات التالية من خلال دراسة الدرس:

حكم صلاة الجماعة :

أربط كل عبارة في العمود (أ) بما يناسبها في العمود (ب)



في المنزل
خمس مرات في اليوم
والليلة
لأستيقظ لصلاة الفجر

أمام مبكرا
مصلى المدرسة
تصلي المرأة
تجب صلاة الجماعة

توقيع ولي الأمر :
.....



توقيع المعلم :
.....